

DRŽAVNO NATJECANJE UČENIKA IZ GEOGRAFIJE 2010. GODINE
7. RAZRED

Zaporka _____ Bodovi _____

Sljedeća dva zadatka riješi pomoću klimatskog dijagrama.

2

1. Klimatskim dijagramom prikazana je **umjereno topla** klima sa **svježim ljetom**, koju ima grad _____, glavni grad europske otočne države _____.

2

2. U godišnjem hodu **padalina** vidljiva su dva maksimuma: u mjesecu _____ i mjesecu _____.

Sljedeća dva zadatka riješi uz pomoć priložene karte Škotske:

3

3. **Slovima** su označena **škotska otočja**. Iza slova na crte upiši njihove nazive.

A - otočje _____

B - otočje _____

C - otočje _____

2

4. Na crte uz brojeve upiši naziv **reljefne cjeline** označene na karti.

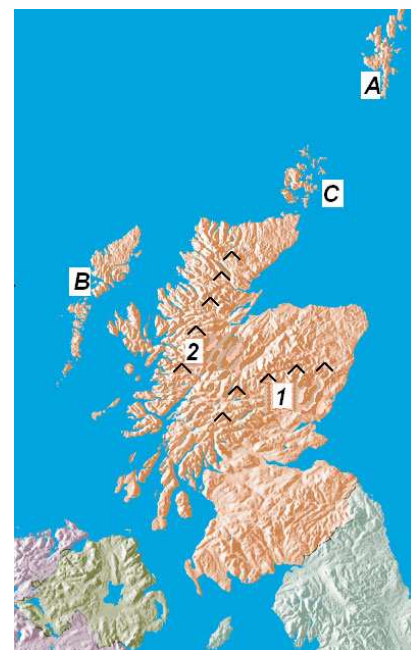
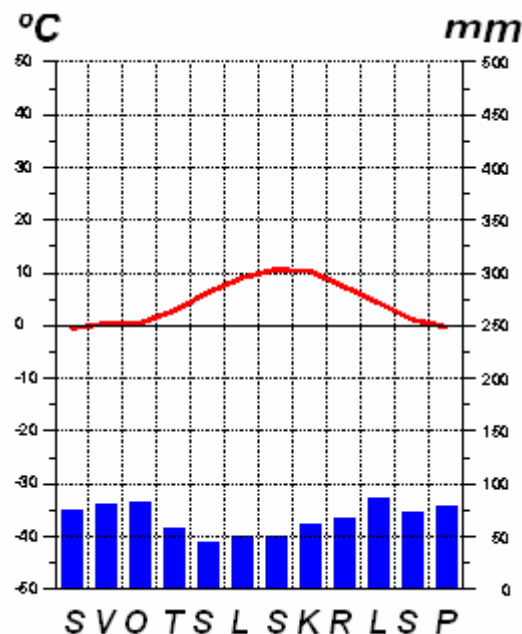
1 - _____ gorje

2 - _____ visočje

U svakom od sljedeća dva zadatka u tekstu prekriži **6 pogrešnih pojmova** napisanih kosim slovima.

3

5. Danska je po obliku vladavine *republika/kraljevina*. Politički joj pripadaju *Goveđi/Ovčji* otoci, smješteni *zapadno/istočno* od početnog meridijana. Glavni grad Danske Kopenhagen, najvećim se dijelom nalazi na *istočnoj/zapadnoj* obali otoka *Sjaelland/Lolland*, a mostom je preko tjesnaca Sund povezan sa švedskim gradom *Göteborg/Malmö*.



3

6. Najveći broj država Jugoistočne Europe bio je do 1991. godine u sastavu države **SSSR-a/SFRJ-a**, većina stanovnika govori **romanskim/slavenskim** jezicima, a vjerom su pretežito **protestanti/pravoslavci**. Najmlađa jugoistočnoeuropska država je **Kosovo/Crna Gora**, najrjeđe naseljena država je **Crna Gora/Kosovo**, a tri službena jezika ima **Bosna i Hercegovina/Makedonija**.

U SVAKOM OD SLJEDEĆIH SEDAM ZADATAKA DVA SU ODGOVORA TOČNA.

ZAOKRUŽI SLOVO ISPRED TOČNOG ODGOVORA.

2

7. **Norveška** je poznata po bogatim ležištima:

a) nafte, b) lignita, c) željezne rude, d) prirodnog plina, e) kalijevih soli, f) boksita

2

8. Najveća i najvažnija središta **Transilvanije** su gradovi:

a) Ploiești, b) Craiova, c) Burgas, d) Braila, e) Cluj-Napoca, f) Brașov

2

9. Koji otoci (otočja) pripadaju **Grčkoj**.

a) Liparski, b) Pelagijski, c) Alboran, d) Sporadi, e) Cikladi, f) Kornati

2

10. Južna Njemačka najvećim dijelom obuhvaća područje **saveznih zemlja**:

a) Nordrhein-Westfalen, b) Sachsen, c) Baden-Württemberg,

d) Hessen, e) Schleswig-Holstein, f) Bayern

2

11. Koje srednjoeuropske države imaju granicu na **Nežiderskom jezeru**:

a) Slovačka, b) Slovenija, c) Austrija, d) Mađarska, e) Češka, f) Švicarska

2

12. Zaokruži najvažnije **tercijarne** djelatnosti na poluotoku **Krim**.

a) industrija, b) turizam, c) rudarstvo, d) promet, e) poljoprivreda, f) ribarstvo

2

13. Europske države s najrazvijenijim **ribarstvom** (najvećim ulovom ribe) su:

a) Norveška, b) Švedska, c) Irska, d) Island, e) Finska, f) Nizozemska

U sljedećim zadacima dopuni rečenice.

2

14. Najveće **finsko jezero** u sjevernom polarnom krugu je _____, u području oko kojega žive pripadnici **naroda** _____ (na slici).

2

15. U reljefu **Kosova** izdvajamo višu _____ zavalu i nižu _____ zavalu.

2

16. Europske države članice skupine **G-8** s prevladavajućim romanskim stanovništvom su _____ i _____.



3

17. Na slici je najveća i najduža **klisura** (sutjeska) Jugoistočne Europe _____, koju je **Dunav** oblikovao probijajući se kroz Karpate, a nalazi se na samoj granici država _____ i _____.



2

18. Od grada **Usti nad Labem** rijeka _____ je plovna za veće brodove, koji iz Češke prema sjeveru plove državom _____.

2

19. Otok **Island** poznat je po _____ (na slici), povremenim izvorima **vruće vode i pare**, a energiju koja se pritom oslobađa nazivamo _____ energija.



2

20. Na ušću rijeke **Teple** u rijeku **Ohře** nalaze se jedne od najpoznatijih europskih **toplica i lječilišta** (na slici) _____, na zapadu srednjoeuropske države _____.



3

21. Najviši vrh **Kavkaza** (Europe) _____ (na slici) nalazi se na jugu euroazijske države _____, nekoliko kilometara od granice s državom _____.



3

22. Posljednjim proširenjem **Europske unije** _____ godine, uniji su pristupile države _____ i _____.

2

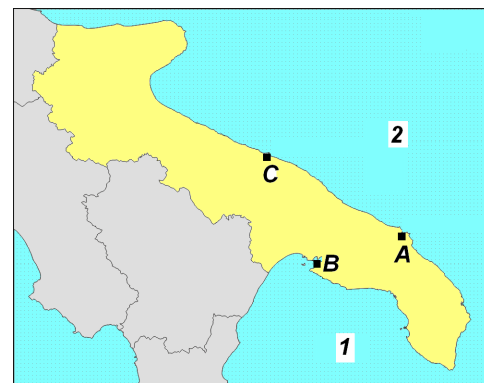
23. **Ljevkasto** riječno ušće prikazano na karti nazivamo _____, a na obalama prikazanog riječnog ušća nalazi se (kvadratićem označena) jedna od najvećih francuskih **luka** _____.



3

24. **Transsibirska željeznica** povezuje **glavni grad** Rusije _____, **najveći grad** bajkalske regije _____ s **najvećom ruskom lukom** na obali Japanskog mora _____.

Sljedeća dva zadatka riješi uz pomoć priložene karte regije i poluotoka Apulije:



3

25. Slovim su označeni **južnotalijanski gradovi**, važna industrijska središta.

Napiši njihova imena: A _____,
B _____, C _____

2

26. Upiši nazive **mora** označenih brojem 1, odnosno 2.

1 _____, 2 _____

3

27. Poveži **gradove** i njihov **smještaj** s pripadajućim Južnoeuropskim **državama**

upisivanjem jednog slova i jednog broja na crte ispred njih. Jedno slovo i broj je višak

_____ Španjolska	A - Drač	1 - luka na obali Tirenskog mora
_____ Albanija	B - Konstanca	2 - luka na obali Jonskog mora
_____ Italija	C - Napulj	3 - luka na obali Atlantskog oceana
	D - Vigo	4 - luka na obali Jadranskog mora

U svakom od sljedeća dva zadatka poveži desni stupac s lijevim upisivanjem slova na crtu ispred pojmova u lijevom stupcu. Jedno slovo je višak.

2

28. Poveži geografske **prostore** s njihovim **nazivima**:

_____ Sahalin	A - regija između zapadne Ukrajine i istočne Poljske
_____ Ključevskaja Sopka	B - regija omeđena rijekama Dnjestar i Prut u Moldaviji
_____ Galicija	C - vulkan na Kamčatki
_____ Besarabija	D - otok u Ohotskom moru
	E - močvarno područje u Bjelorusiji

2

29. Poveži **objašnjenja** s pripadajućim **glavnim gradovima** istočnoeuropskih država:

_____ Moskva	A - najjužniji istočnoeuropski glavni grad
_____ Kijev	B - grad na istoimenoj rijeci
_____ Minsk	C - grad na rijeci Don
_____ Kišinjev	D - grad na rijeci Dnjepr
	E - glavni grad najmanje istočnoeuropske slavenske države

3

30. Slovim na karti označena su tri najveća

balearska otoka. Slova s karte pridruži njihovim imenima:

Menorca _____

Mallorca _____

Ibiza _____

