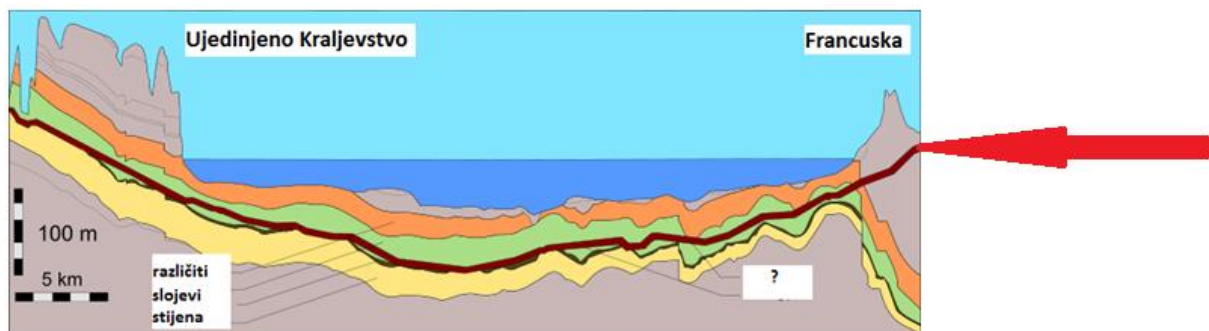


ŽUPANIJSKO NATJECANJE IZ GEOGRAFIJE 2021. GODINE

7. razred

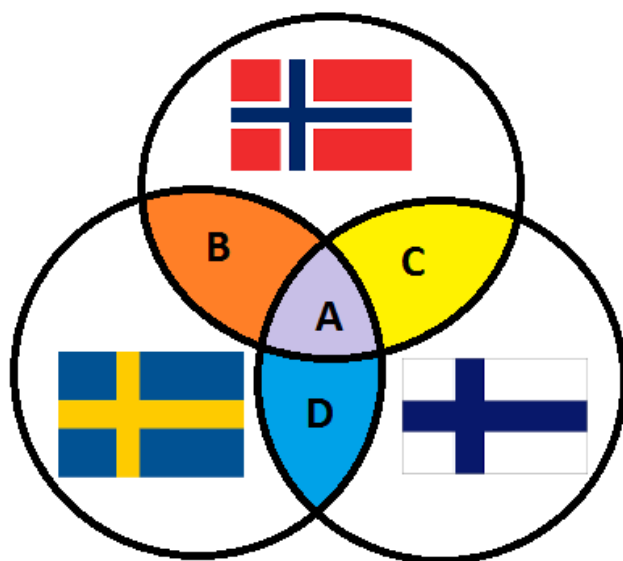
Većina zadataka rješava se pomoću grafičkih priloga. Pozorno prouči grafičke priloge prije rješavanja tih zadataka. U svakom zadatku jedan je odgovor točan. Na listu za odgovore zaokruži slovo točnog odgovora.

- 1 1. Koja među navedenim državama ima kopnenu granicu samo s jednom državom?
a) Lihtenštajn b) Luksemburg c) Nizozemska d) Norveška e) Ujedinjeno Kraljevstvo
- 1 2. Kroz koji od navedenih gradova ne protječe najprometnija rijeka slijeva Sjevernog mora?
a) Basel b) Dortmund c) Köln d) Mannheim e) Strasbourg
- 1 3. Koje je najveće industrijsko središte na sjeveroistoku Slovenije?
a) Celje b) Ljubljana c) Maribor d) Novo Mesto e) Velenje
- 1 4. Koja se od navedenih reljefnih uzvisina počela izdizati u geološkoj eri koja prethodi eri tijekom koje je bila posljednja oledba u Europi?
a) Betijski Kordiljeri b) Kambrijsko gorje c) Rodopi d) Rudna gora e) Schwarzwald
- 1 5. Koji se od navedenih švicarskih gradova nalazi u talijanskom govornom području?
a) Bern b) Geneve c) Lausanne d) Lugano e) Zürich
- 1 6. Što predstavlja prikazana crvena linija označena vrhom crvene strelice?



- a) naftovod b) plinovod c) rasjed d) tunel e) vodovod

1 7. Kojim je slovom označen isječak Vennovog dijagrama koji se odnosi na Laponce?



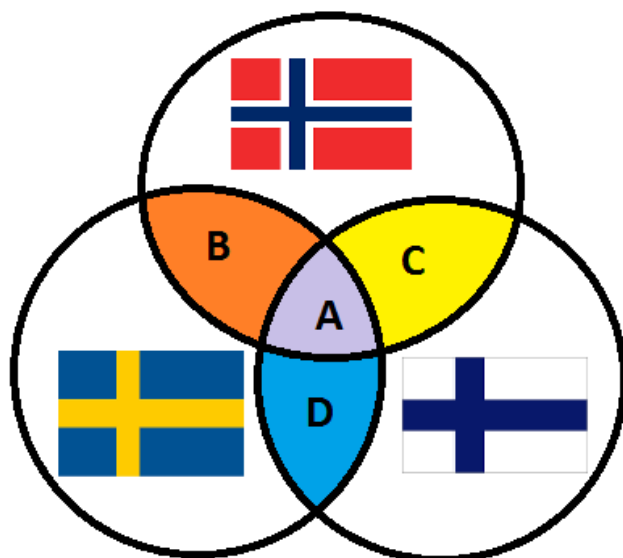
a) A

b) B

c) C

d) D

1 8. Kojim je slovom označen isječak Vennovog dijagrama koji se odnosi na pripadnost jedinog ili jednog od službenih jezika iz skupine germanskih jezika?



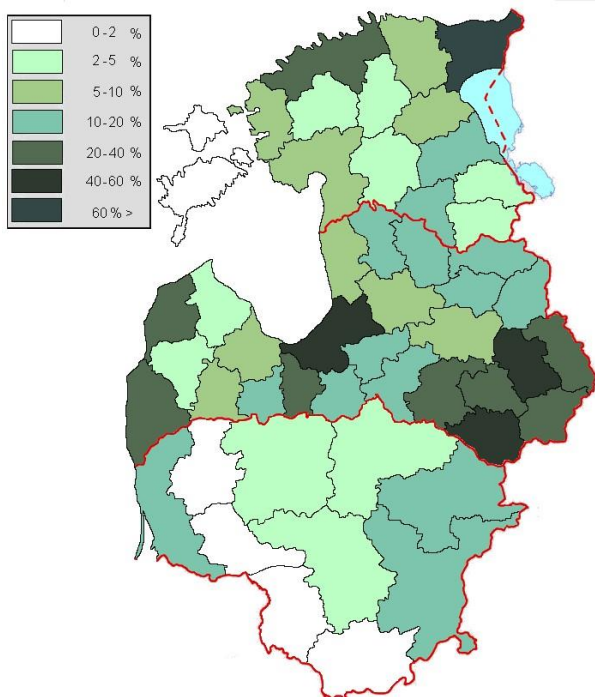
a) A

b) B

c) C


d) D

1 9. Što je prikazano na koropletnoj karti baltičkih država?




- a) udio gradskog stanovništva
- b) udio govornika ruskog jezika**
- c) udio rimokatolika
- d) udio ruralnog stanovništva
- e) udio zaposlenih u primarnom sektoru

1 10. Koje je ime države na koju se odnose prikazani podatci?



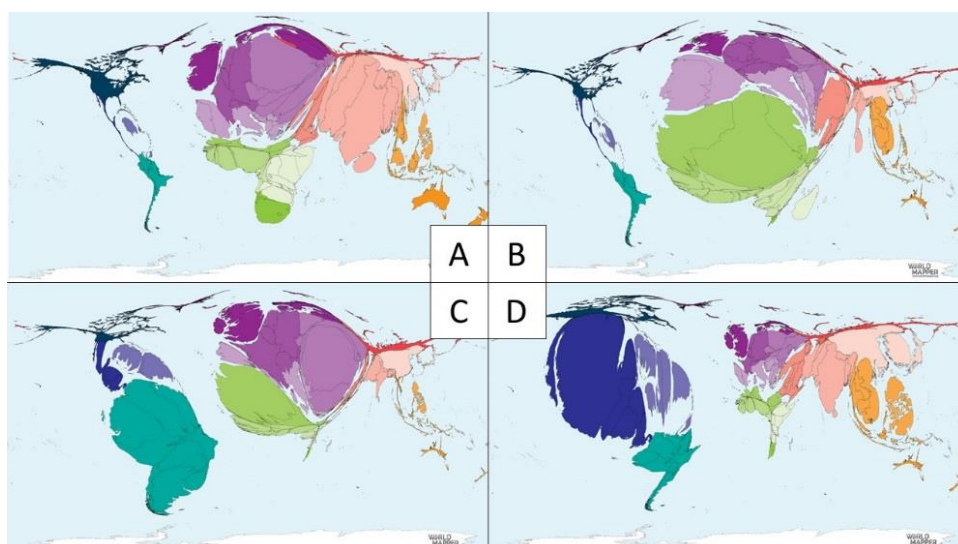
- a) Danska
- b) Francuska
- c) Lihtenštajn
- d) Luksemburg**
- e) Nizozemska

1 11. Koliko iznosi gustoća naseljenosti u prikazanoj državi (zaokruženo na cijeli broj)?



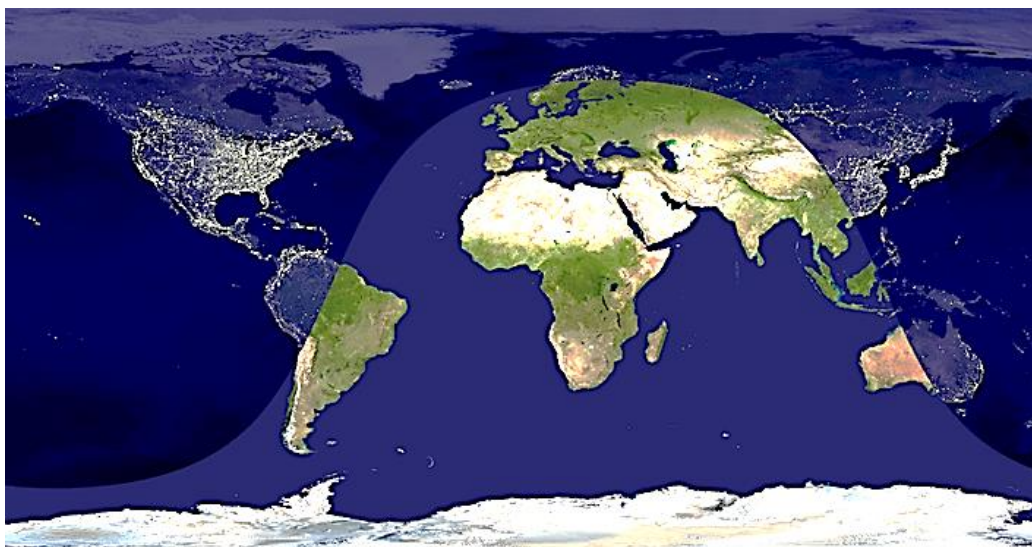
- a) 76 stan./km² b) 139 stan./km² c) 171 stan./km²
d) 231 stan./km² e) 276 stan./km²

1 12. Kojim je slovom označen kartogram koji prikazuje države svijeta prema broju imigranata u Francuskoj?



- a) A **b) B** c) C d) D

1 13. Koji je vremenski trenutak za stanovnike Belfasta predstavljen na karti?



- a) ljetno jutro b) ljetna večer c) proljetna večer
d) zimsko jutro e) zimska večer

1 14. Koji je otok prikazan na priloženoj slijepoj karti?

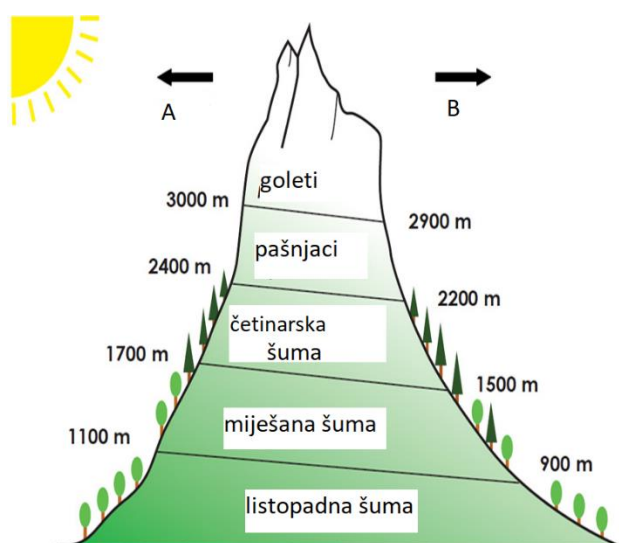


- a) Irska b) Island c) Korzika d) Sardinija e) Sicilija

1 15. Što je imalo presudan utjecaj na današnji izgled europske obale?

- a) podizanje morske razine nakon posljednjeg ledenog doba te naknadni utjecaj mlata valova
- b) podizanje morske razine prije posljednjeg ledenog doba te naknadni utjecaj mlata valova
- c) spuštanje morske razine nakon posljednjeg ledenog doba te naknadni utjecaj tekućica
- d) spuštanje morske razine prije posljednjeg ledenog doba te naknadni utjecaj mlata valova
- e) spuštanje morske razine prije posljednjeg ledenog doba te naknadni utjecaj tekućica

1 16. Prema kojim su stranama svijeta označenim slovima A i B na priloženoj skici većinom okrenute padine alpskih uzvisina u Švicarskoj?

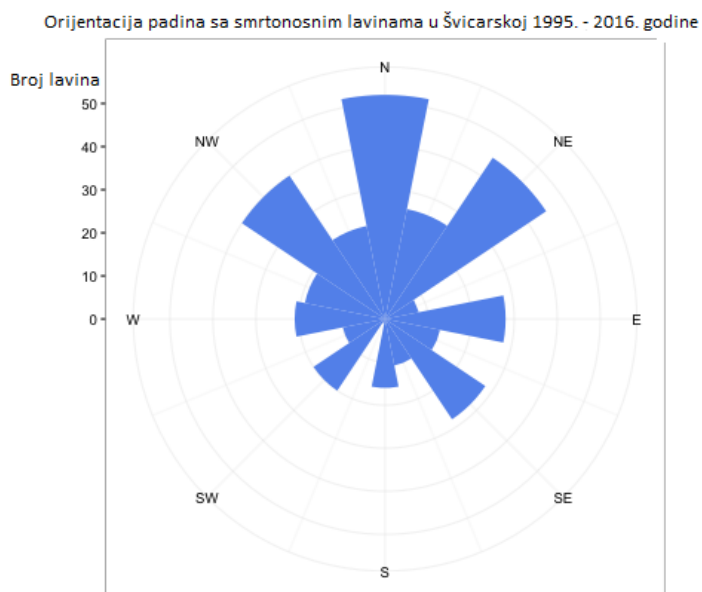


- a) prema A istoku i B zapadu
- b) prema A jugu i B sjeveru
- c) prema A sjeveru i B jugu
- d) prema A zapadu i B istoku
- e) prema A zapadu i B jugu

1 17. U kojoj se od navedenih visinskih kategorija nalaze sezonska naselja alpskih stočara?

- a) četinarska šuma
- b) goleti
- c) listopadna šuma
- d) miješana šuma
- e) pašnjaci

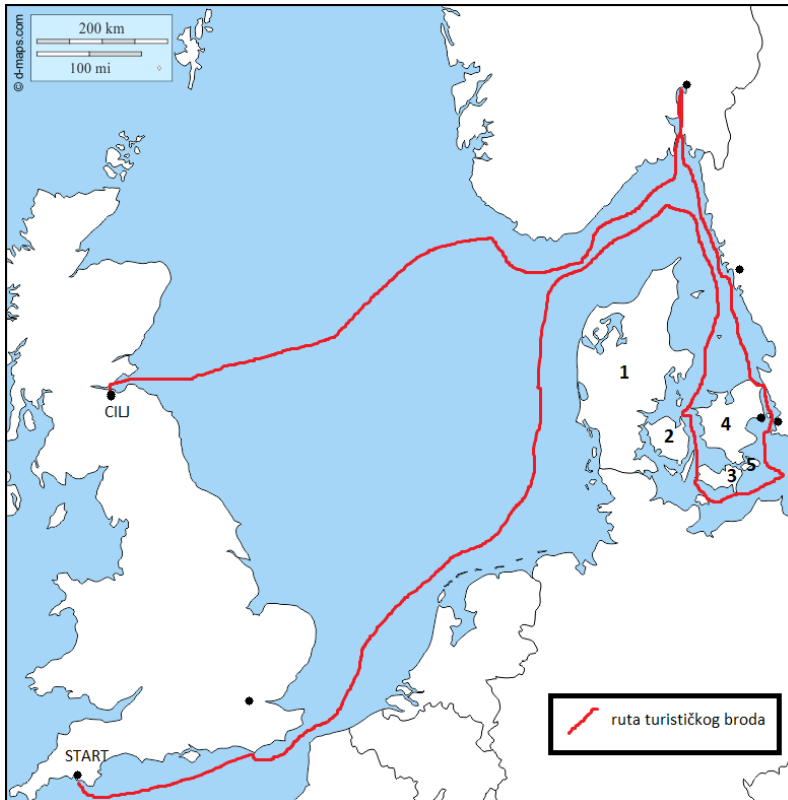
1 18. Što se od navedenog **ne može** zaključiti iz priloženog dijagrama?



- a) Južne su padine u Švicarskoj sigurnije od lavina nego sjeverne.
- b) Na jugozapadnim se padinama dogodilo manje od 30 lavina.
- c) Na južnim je padinama najmanja količina snijega.
- d) Najveći se broj smrtonosnih lavina dogodio na sjevernim padinama.
- e) Na sjeveroistočnim padinama veći je broj smrtonosnih lavina od jugoistočnih.

SLJEDEĆIH OSAM ZADATAKA RIJEŠI UZ POMOĆ PRILOŽENE GEOGRAFSKE KARTE.

1 **19.** Iz kojeg je engleskog grada krenuo turistički brod?



- a) Bournemouth b) Bristol **c) Plymouth** d) Portsmouth e) Southampton

1 **20.** Koji je točan redoslijed morskih prolaza kojima je brod prolazio od početka do kraja puta?

- a) Doverska vrata – Kattegat – Skagerrak – Veliki Belt – Öresund - Kattegat
b) Doverska vrata – Öresund – Kattegat – Veliki Belt – Skagerrak – Öresund
c) Doverska vrata – Skagerrak – Kattegat – Mali Belt – Veliki Belt – Öresund
d) Doverska vrata – Skagerrak – Kattegat – Veliki Belt – Öresund – Kattegat
e) Doverska vrata – Skagerrak – Öresund – Veliki Belt – Kattegat – Skagerrak

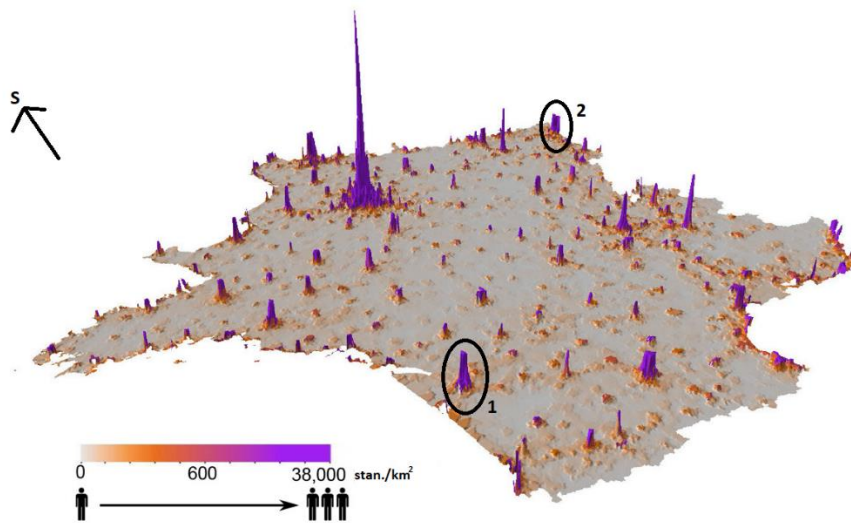
1 **21.** Kojim je brojem na karti označen otok/poluotok na kojem je smješten glavni grad Danske?

- a) 1 b) 2 c) 3 **d) 4** e) 5

- 1** **22.** Koje je ime otoka/poluotoka na kojem se smjestio glavni grad Danske?
a) Bornholm b) Fyn c) Jylland d) Lolland **e) Sjælland**
- 1** **23.** Koje je ime fjorda kojim je prošao turistički brod?
a) Hardangerfjord **b) Oslofjord** c) Sognefjord d) Varangerfjord e) Vestfjord
- 1** **24.** Koje je od navedenih ime švedskog grada označenog točkom na karti koji je povezan s Danskom mostom i tunelom?
a) Göteborg b) Kiruna c) Lund **d) Malmö** e) Stockholm
- 1** **25.** Koja je od navedenih tvrdnji o prikazanoj ruti turističkog broda točna?
a) Ruta prolazi jednim oceanom i jednim obalnim (rubnim) morem.
b) Ruta prolazi jednim oceanom i dvama obalnim (rubnim) morima.
c) Ruta prolazi jednim oceanom i trima obalnim (rubnim) morima.
d) Ruta prolazi jednim oceanom i četirima obalnim (rubnim) morima.
- 1** **26.** Koja je od navedenih tvrdnji o krajnjem odredištu prikazane turističke rute točna?
a) Ruta završava u najmnogoljudnijem gradu Škotske.
b) Ruta završava u gradu čije je ime Glasgow.
c) Ruta završava u gradu na obali estuarija Firth of Forth.
d) Ruta završava u gradu na ušću rijeke Tyne.
e) Ruta završava na granici Engleske i Škotske.

SLJEDEĆA TRI ZADATKA RIJEŠI UZ POMOĆ PRILOŽENE SINOPTIČKE KARTE.

1 27. Koji se postupak od navedenih provodi zbog stanja istaknutog na priloženoj karti?



a) decentralizacija

b) planska izgradnja apartmana i hotela

c) pronatalitetna populacijska politika

d) restrukturiranje industrije

e) smanjivanje imigracije

1 28. Koja rijeka protječe gradom označenim brojem 1 na priloženoj karti?

a) Durance

b) Garonne

c) Loire

d) Seine

e) Somme

1 29. Koji je grad označen brojem 2 na priloženoj karti?

a) Lille

b) Lyon

c) Nancy

d) Strasbourg

e) Toulouse

SLJEDEĆA TRI ZADATKA RIJEŠI UZ POMOĆ PRILOŽENE SINOPTIČKE KARTE.

1 **30.** Koje je godišnje doba u kojem je prikazana trenutna sinoptička situacija na karti?



- a) jesen b) ljeto c) proljeće **d) zima**

1 **31.** Za koji će od navedenih prostora meteorolozi na temelju prikazane karte predvidjeti stabilno vrijeme?

- a) za Bretanju b) za Krim **c) za Panonsku nizinu**
d) za Peloponez e) za Siciliju

1 **32.** Koje je ime područja nad kojim nastaje za Europu važno područje visokog tlaka zraka prikazano na karti?

- a) Biskajski zaljev b) Genovski zaljev c) Island **d) Sibir** e) Sjeverno more

SLJEDEĆA TRI ZADATKA RIJEŠI UZ POMOĆ PRILOŽENE TABLICE.

1 33. Koji tip klime odgovara podacima u tablici?

mjesec	S	V	O	T	S	L	S	K	R	L	S	P
temperatura zraka (°C)	-9,3	-7,7	-2,2	5,8	12,9	16,6	18,1	16,4	10,9	5,0	-1,1	-6,1
padaline (mm)	45	37	34	40	58	76	92	74	64	58	58	52

- a) klima tundre b) sredozemna klima c) stepska klima
 d) umjereno topla vlažna klima e) vlažna snježno-šumska klima

1 34. Kolika je godišnja amplituda temperature zraka za prikazanu mjernu postaju?

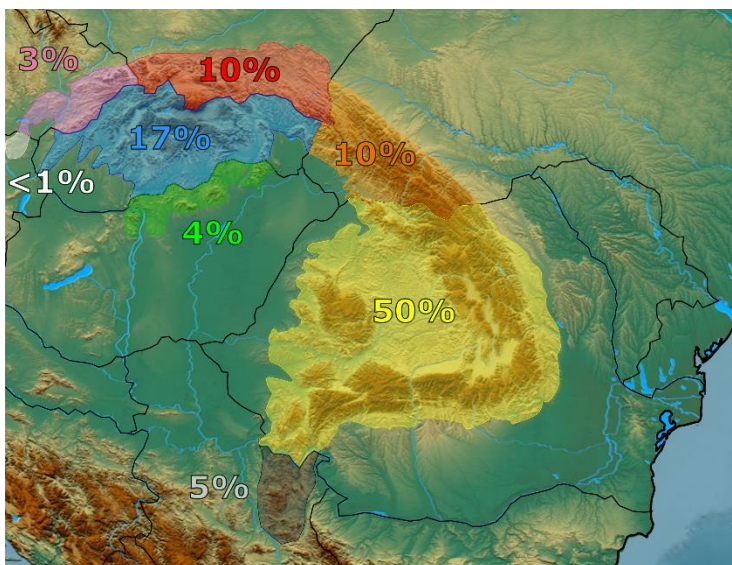
- a) 7,3 °C b) 8,8 °C c) 25,9 °C d) 27,4 °C e) 30,8 °C

1 35. Koja je od navedenih poljoprivrednih kultura najviše zastupljena u uzgoju na otvorenom prostoru u prikazanim klimatskim uvjetima?

- a) datulje b) kivi c) krumpir d) mandarine e) riža

SLJEDEĆA TRI ZADATKA RIJEŠI UZ POMOĆ PRILOŽENE GEOGRAFSKE KARTE.

1 36. U kojoj se državi bez izlaza na more nalazi najveći udio prikazanog planinskog lanca?



- a) u Poljskoj b) u Rumunjskoj c) u Slovačkoj d) u Srbiji e) u Ukrajini

1 37. Za vrijeme kojeg su geološkog razdoblja oblikovani najmlađi dijelovi prikazanog planinskog lanca?

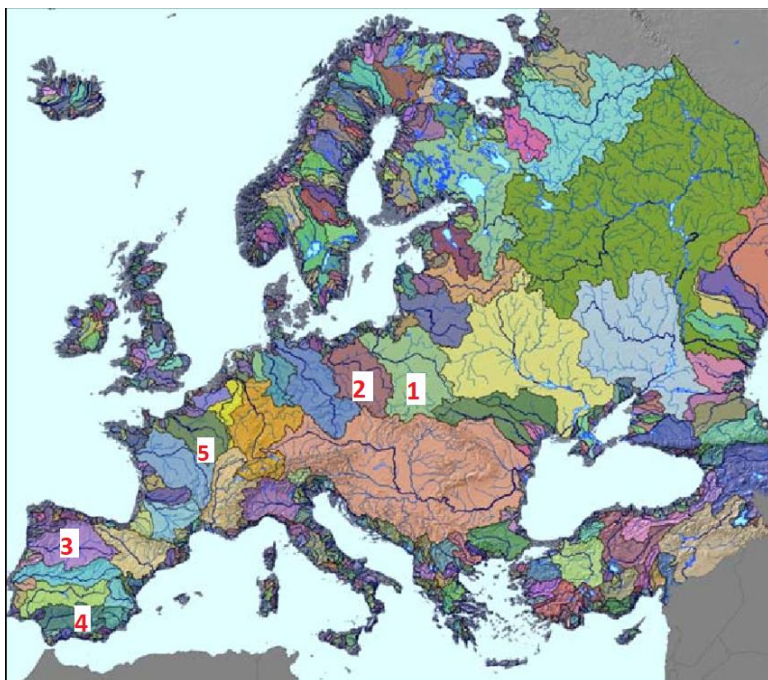
- a) u arhaiku **b) u kenozoiku** c) u mezozoiku
d) u paleozoiku e) u proterozoiku

1 38. Koje se među navedenim skijalištima nalazi na prostoru prikazanog planinskog lanca?

- a) Bansko b) Gstaad c) Kitzbühel d) Val-d'Isère **e) Zakopane**

SLJEDEĆA DVA ZADATKA RIJEŠI UZ POMOĆ PRILOŽENE GEOGRAFSKE KARTE.

1 39. Koje je ime rijeke čije je porječje označeno na karti brojem 1?

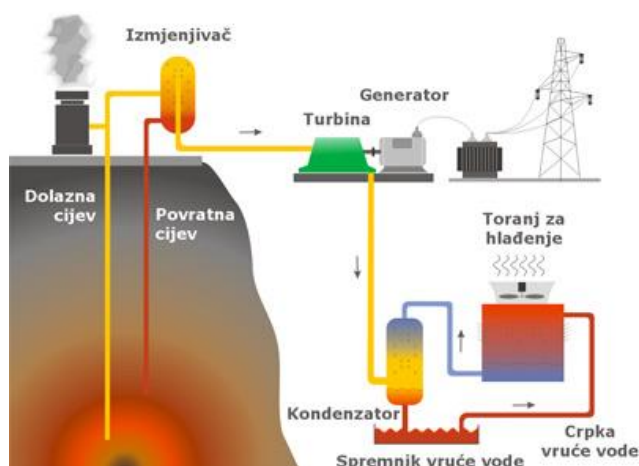


- a) Laba b) Odra c) Vltava **d) Wisła** e) Zapadna Dvina

1 40. Kojim je brojem označeno porječje rijeke kojemu dio razvodnice prolazi Kantabrijskim gorjem?

- a) 1 b) 2 **c) 3** d) 4 e) 5

1 41. Koja među navedenim državama dobiva najveći udio energije iz prikazane vrste elektrana?



- a) Danska b) Francuska c) Island d) Litva e) Norveška

SLJEDEĆA DVA ZADATKA RIJEŠI UZ POMOĆ PRILOŽENE GEOGRAFSKE KARTE.

1 42. Koje je od imena kopnenih voda pogrešno upisano na priloženoj karti Mađarske?



- a) Balaton b) Dunav c) Neusiedler jezero d) Raba e) Tisa

1 43. Koje je ime grada pogrešno upisano na priloženoj karti Mađarske?

- a) Budimpešta b) Debrecen c) Győr d) Pécs e) Szeged

1 44. Koju od prikazanih europskih putovnica automatski stječu stanovnici najvećeg otoka Sjeverne Amerike?



a) A

b) B

c) C

d) D

1 45. U kojem je od navedenih gradova sjedište institucije čija je zastava na prikazu?



a) u Beču

b) u Bruxellesu


c) u Luxembourggu

d) u Parizu

e) u Zürichu

1

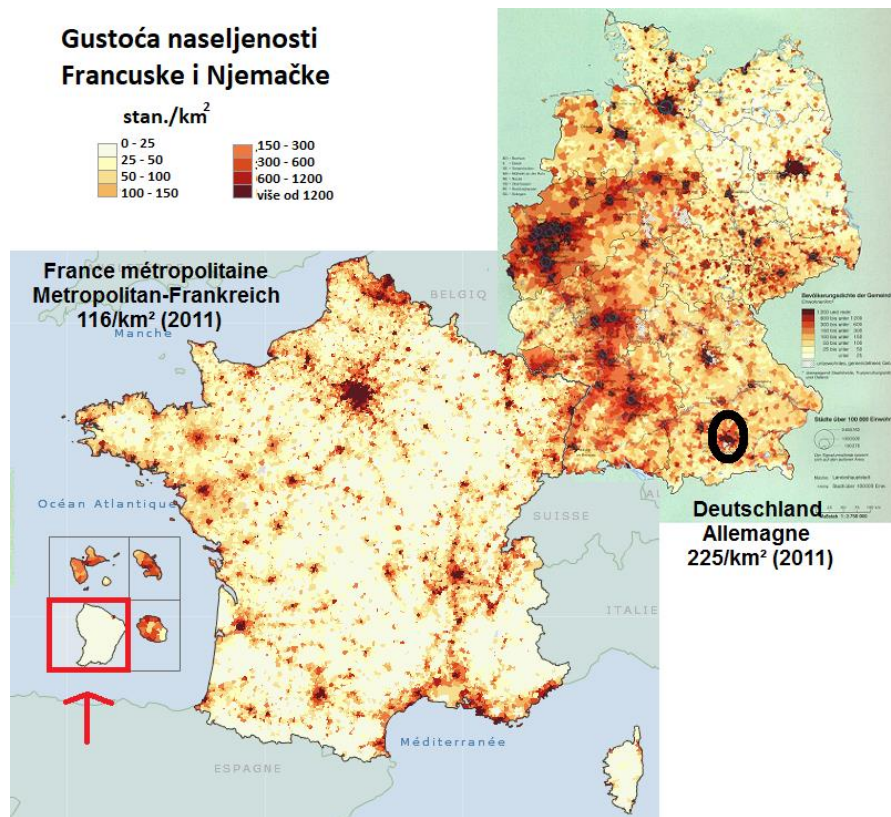
46. Koji je oblik turizma razvijen na prikazanoj lokaciji?



- a) agroturizam b) lječilišni turizam c) memorijalni turizam
d) turizam gradova e) vjerski turizam

SLJEDEĆA TRI ZADATKA RIJEŠI UZ POMOĆ PRILOŽENE GEOGRAFSKE KARTE.

1 47. Koja je tvrdnja o gustoći naseljenosti Francuske i Njemačke točna?



- a) Azurna je obala rijetko naseljen prostor.
- b) Pogranično područje Francuske i Njemačke rijetko je naseljeno.
- c) Prostor uz rijeku Odru gusto je naseljen.
- d) Razmještaj stanovništva Njemačke ravnomjerniji je od razmještaja stanovništva Francuske.**
- e) Stara rudarsko-industrijska regija uz rijeku Ruhr danas je rijetko naseljena.

1 48. Koji od navedenih proizvođača automobila ima sjedište u gradskoj regiji zaokruženoj crnom bojom?

- a) Audi
- b) BMW**
- c) Mercedes-Benz
- d) Porsche
- e) Volkswagen

1 49. U kojem je od navedenih područja smješten dio teritorija Francuske označen crvenom strelicom i crvenim pravokutnikom?

- a) u Africi
- b) u Atlantskom oceanu**
- c) u Indijskom oceanu
- d) u Južnoj Americi**
- e) u Tihom oceanu

1 **50.** U kojoj se državi nalaze prikazane ploče na ulazu u naselja u kojima žive pripadnici hrvatske nacionalne manjine?



a) u Austriji **b) u Italiji** **c) u Mađarskoj** **d) u Njemačkoj** **e) u Rumunjskoj**