

**ŠKOLSKO/OPĆINSKO/GRADSKO NATJECANJE IZ GEOGRAFIJE  
2021. GODINE**

**7. razred**

Zadatke riješi pomoću slikovnih priloga. Ispod svake slike nalazi se jedan ili više zadataka.

U svakom zadatku jedan je odgovor točan.

- 1**  1. Koju krajnju točku kopnenog dijela Europe prikazuje fotografija?



- a) najistočniju      b) najjužniju      c) najsjeverniju      **d) najzapadniju**

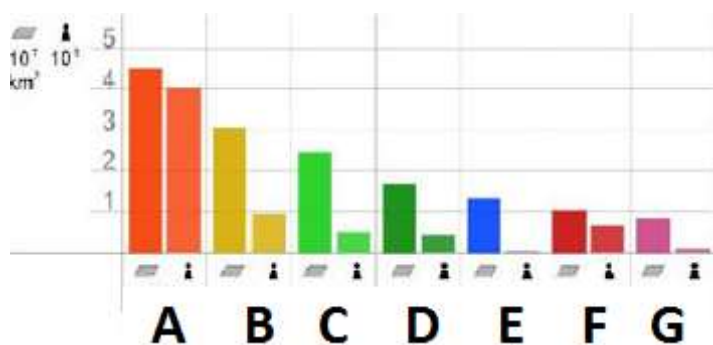
- 1**  2. U kojoj se državi nalazi krajnja kopnena točka Europe prikazana na fotografiji?

- a) u Irskoj      b) u Norveškoj      **c) u Portugalu**      d) u Španjolskoj

- 1**  3. Što je po državnom uređenju država u kojoj se nalazi prikazana krajnja kopnena točka Europe?

- a) kneževina      b) kraljevstvo      **c) republika**      d) veliko vojvodstvo

- 1**  4. Kojim je slovom na priloženom dijagramu označena Europa?



- a) A      b) B      c) D      **d) F**


**1**  5. Kojim je slovom na priloženom dijagramu označen kontinent koji je površinom približno tri puta veći od Europe?

- a) A                      **b) B**                      c) C                      d) D

**1**  6. Koje je ime kontinenta koji je površinom približno tri puta veći od Europe?

- a) Afrika**                      b) Azija                      c) Južna Amerika                      d) Sjeverna Amerika

**1**  7. Na kojoj je fotografiji prikazana taložna stijena?



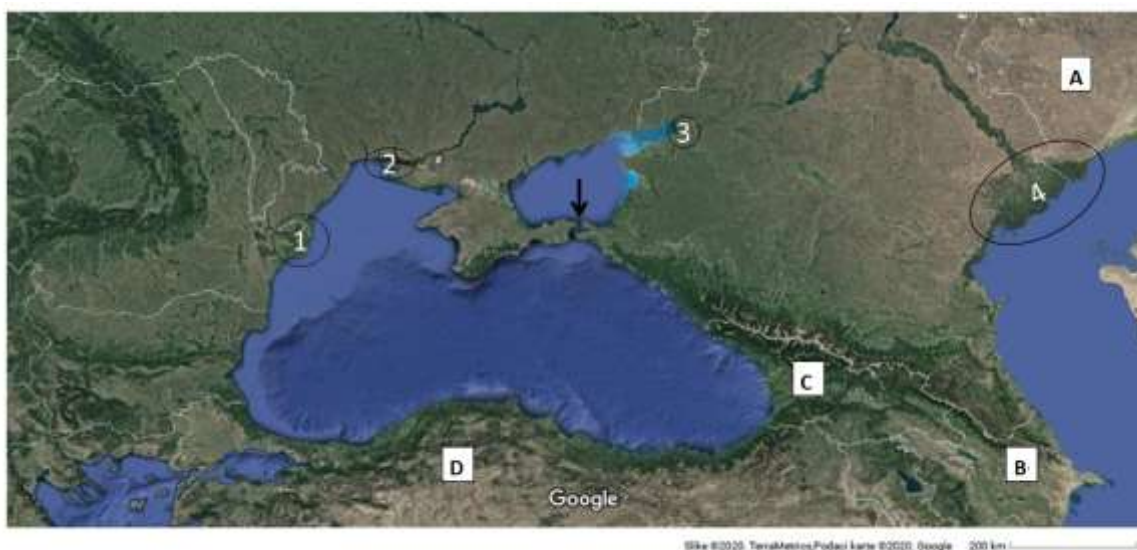
- a) A                      b) B                      c) C                      **d) D**

**1**  8. Na kojoj je fotografiji prikazan fjord?



- a) A**                      b) B                      c) C                      d) D

**1**  9. Kojim je brojem označeno ušće koje se nalazi u najvećoj europskoj depresiji?



- a) 1                      b) 2                      c) 3                      **d) 4**

**1**  10. Kojim je brojem označeno ušće rijeke Don?

- a) 1                      b) 2                      **c) 3**                      d) 4

**1**  11. Koje je ime morskog prolaza označenog crnom strelicom?

- a) Azovski prolaz      b) Bospor                      **c) Kerčka vrata**                      d) Krimska vrata

**1**  12. Kojim je slovom označena država koja među označenima ima najveću površinu teritorija u Europi?

- a) A**                      b) B                      c) C                      d) D

**1**  13. Koje je ime euroazijske države označene slovom C?

- a) Armenija                      b) Azerbajdžan                      **c) Gruzija**                      d) Turska

**1**  14. Kakvog je postanka udubljenje najvećeg jezera među prikazanim?

- a) ledenjačkog                      b) krškog                      **c) ostatak mora**                      d) tektonskog

1 15. Koje je ime rijeke u čijem estuariju započinje zapadni dio prikazanog kanala?



a) Elbe

b) Ems

c) Odra

d) Weser

1 16. Što je prikazano na satelitskoj snimci?



a) Golfska struja

b) količina čestica saharskog pijeska u atmosferi

c) količina padalina

d) putanja ciklona

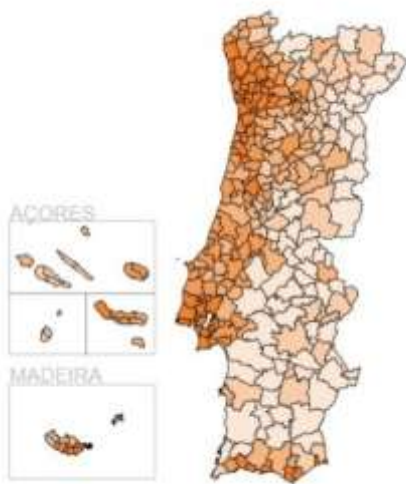


1 20. Koja država nedostaje u prikazanom dijagramu?



- a) Grčka      b) Hrvatska      c) Španjolska      d) Ujedinjeno Kraljevstvo

1 21. Koji se od navedenih procesa može objasniti na prikazanoj karti Portugala?



- a) demografska tranzicija      b) industrijalizacija      c) litoralizacija      d) tercijarizacija

1  22. Koje je ime otočja zaokruženog crvenom bojom?



- a) Farski otoci      b) Hebridi      c) otoci Orkney      **d) otoci Shetland**

1  23. Kojim je među ponuđenim brojevima označena geološki najmlađa reljefna uzvisina?

- a) 1      b) 2      **c) 4**      d) 5

1  24. Kojim je među ponuđenim brojevima označena reljefna cjelina omeđena Vlaškom nizinom na sjeveru i dolinom rijeke Marice na jugu?

- a) 2      b) 3      **c) 4**      d) 5

1  25. Koje je ime morske površine označene znakom X?

- a) Baltičko more      b) Barentsovo more      **c) Bijelo more**      d) Botnički zaljev

1  26. Koja je od navedenih relativna visina između najvišeg vrha Europe i najvišeg vrha Apenina?

- a) 8554 m      **b) 2730 m**      c) 2238m      d) 1895 m

1  27. Koja je tvrdnja točna o reljefnoj uzvisini označenoj brojem 1?

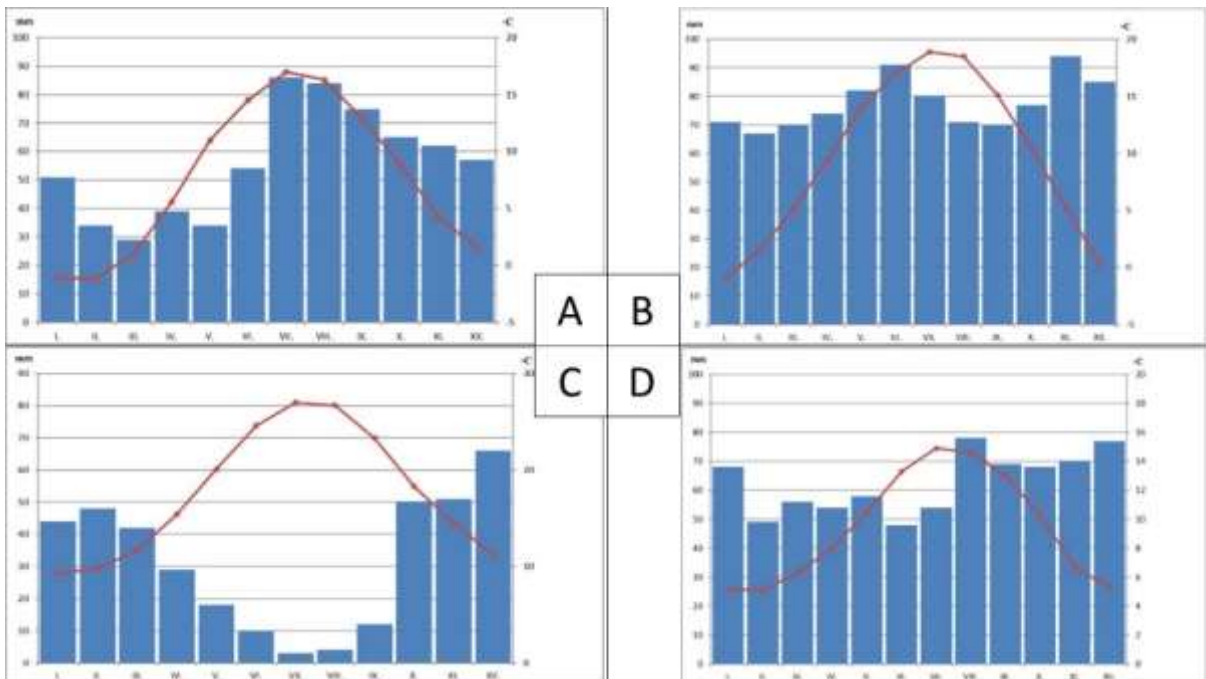
- a) Bogatstvo zlatom ove uzvisine osiguralo je Belgiji i Francuskoj značajan izvor prihoda.  
b) Brojem 1 označeni su Vogezi.  
**c) Najviši vrhovi ove uzvisine ne prelaze 1000 metara nadmorske visine.**  
d) Ova uzvisina nabrana je tijekom mezozoika i kenozoika.

1 28. Koje je ime grada u kojemu su snimljene prikazane fotografije?



- a) Bruxelles      b) Luxembourg      c) Pariz      **d) Strasbourg**

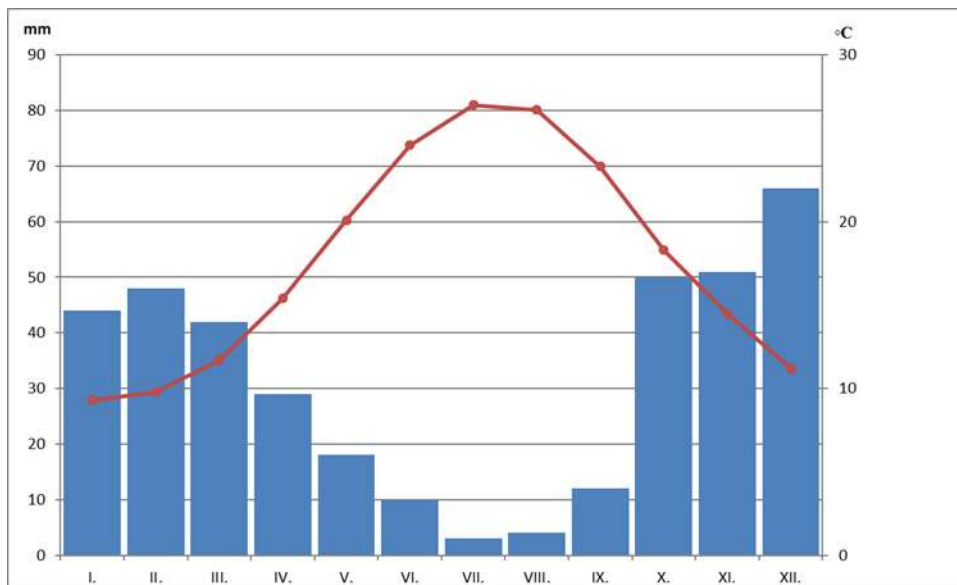
1 29. Na kojem se klimatskom dijagramu uočava najveći utjecaj maritimnosti?



- a) A      b) B      c) C      **d) D**



**1** **30.** U kojem je mjesecu najviša srednja mjesečna temperatura zraka na prikazanom dijagramu?



a) u kolovozu      b) u lipnju      **c) u srpnju**      d) u svibnju

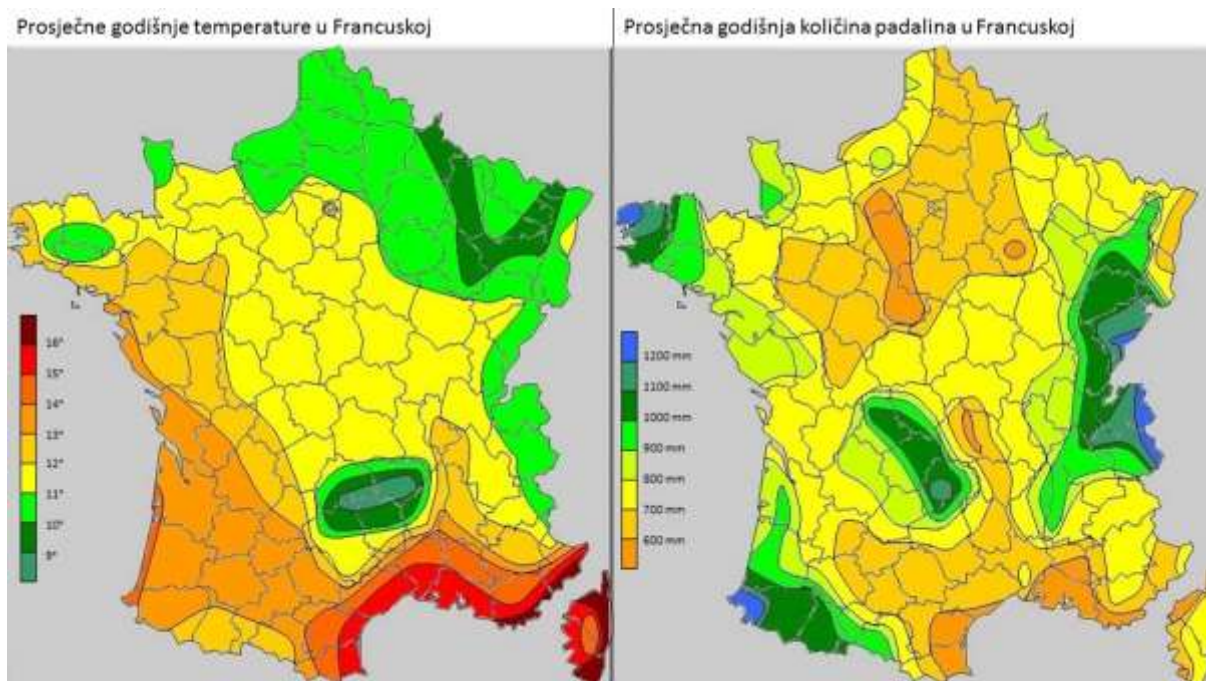
**1** **31.** Koje je najvlažnije godišnje doba na prikazanom dijagramu?

a) jesen      b) ljeto      c) proljeće      **d) zima**

**1** **32.** Koji je tip klime prikazan na dijagramu?

a) vlažna snježno-šumska      **b) sredozemna**      c) stepska      d) umjereno topla vlažna

1 33. Koja tvrdnja o klimi Francuske **nije** točna?



- a) Prosječno najtopliji dio kopnenog dijela Francuske je Azurna obala.
- b) Klimatski utjecaj Sredozemnog mora prodire u unutrašnjost do grada Lyona.
- c) Obala Akvitanije ima prosječnu godišnju temperaturu zraka 14 – 15 Celzijevih stupnjeva.
- d) Zbog zapadnih vjetrova, Sredozemno more ima jači utjecaj na klimu od Atlantskog oceana.**


1 34. Koje je govorno jezično područje Belgije obojeno ljubičasto?



- a) flamansko
- b) luksemburško
- c) njemačko
- d) valonsko**

- 1  35. Kojoj skupini indoeuropskih jezika pripada žuto obojeno govorno jezično područje?  
a) germanski jezici    b) romanski jezici    c) slavenski jezici    d) ostali indoeuropski jezici

- 1  36. Kojim je brojem označen glavni grad najrjeđe naseljene zemlje Ujedinjenog Kraljevstva?



a) 1  
b) 2  
c) 3  
d) 4

- 1  37. Koji je ime grada pogrešno upisano na priloženoj karti?  
a) Birmingham    b) Leeds    c) Liverpool    d) Manchester

- 1  38. Koje je gorje smješteno na crveno zaokruženom području?  
a) Grampiansko    b) Kambrijsko    c) Kumbrijsko    d) Peninsko

1 39. Koja je od priloženih fotografija snimljena u Škotskoj?



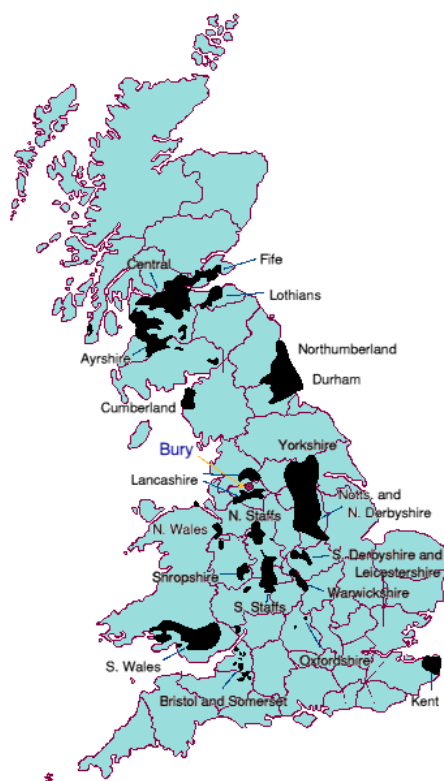
a) A

b) B

c) C

d) D

1 40. Koje je od navedenih područja prikazano crnom bojom na priloženoj karti dijela Ujedinjenog Kraljevstva?



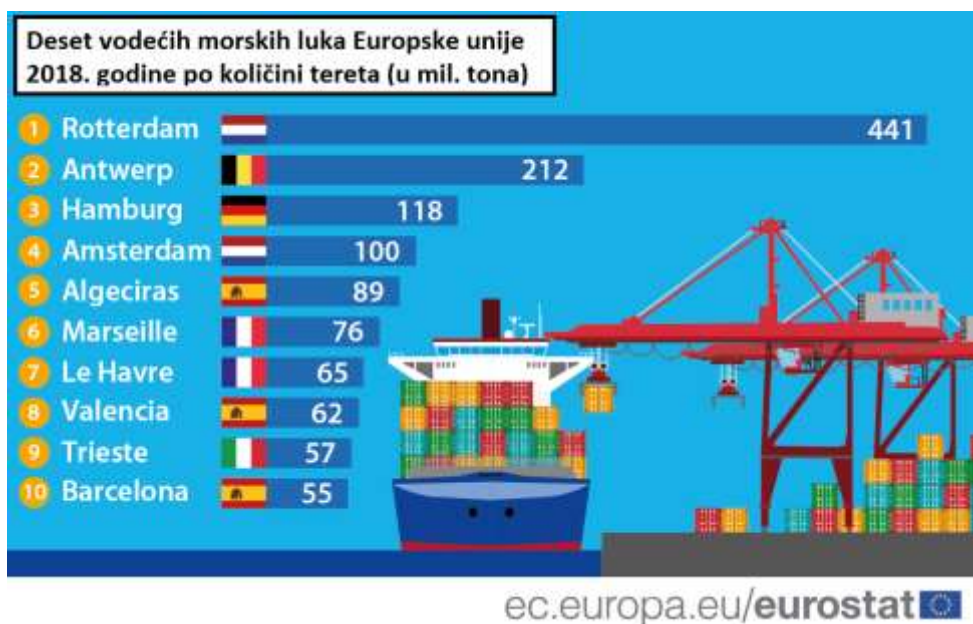
a) ležišta nafte

b) ležišta ugljena

c) metropolitanska područja

d) najveće konurbacije

1 41. Koja je tvrdnja točna o vodećim morskim lukama Europske unije?



- a) Četiri luke od deset najvećih po količini tereta u 2018. godini smještene su na obali Sredozemnog mora.
- b) Dvije nizozemske luke ukupno imaju više teretnog prometa od svih ostalih osam vodećih luka zajedno.
- c) Najveća luka po količini tereta u 2018. godini smještena je na ušću rijeke Schelde.
- d) Najveća francuska luka s popisa nalazi se na području deltastog ušća.**

1 42. Koji je naziv za prostor međusobno sraslih gradova?



- a) aglomeracija
- b) konurbacija**
- c) satelitski grad
- d) suburbano područje

1

43. U kojem je od navedenih gradova sjedište nizozemske vlade?

- a) Amsterdam      **b) Haag**      c) Rotterdam      d) Utrecht

1

44. Na kojoj je od priloženih fotografija prikazan isječak obale u crnom pravokutniku?



- a) A      b) B      **c) C**      d) D

1

45. Iskorištavanje kojeg izvora energije je prikazano na priloženoj fotografiji?



- a) energije plime i oseke      b) energije Sunca      c) energije valova      **d) energije vjetra**

**1** **46.** Koji je od navedenih točan naslov priložene tematske karte?



- a) Države Europe čiji službenik jezik pripada slavenskoj skupini jezika.
- b) Države Europe u kojima većinu vjernika čine pravoslavci.**
- c) Države Europe u kojima je službeno pismo ćirilica.
- d) Države Jugoistočne i Istočne Europe.

1 47. Koja od navedenih država ima najveći prirodni pad?

Tab. 1. Izabrani podatci o stanovništvu odabranih država Europe 2020. godine

Država	Stopa rodnosti (‰)	Stopa smrtnosti (‰)	Migracijska bilanca (‰)	Udio starog stanovništva (%)	Stupanj urbanizacije (%)
Albanija	13,0	17,1	-3,3	13,03	62,1
Bjelorusija	9,5	13,1	0,7	15,93	70,5
Moldova	10,7	12,6	-9,0	14,03	42,8
Slovenija	8,7	10,3	1,5	21,23	55,1

Izvor: <https://www.cia.gov/library/publications/resources/the-world-factbook/>

a) Albanija      b) Bjelorusija      c) Moldova      d) Slovenija

1 48. Koliko iznosi migracijska bilanca u državi s najvećim udjelom ruralnog stanovništva?

a) -9,0 ‰      b) -3,3 ‰      c) 0,7 ‰      d) 1,5 ‰

1 49. Kolika je stopa prirodne promjene u državi s najvećim udjelom starog stanovništva?

a) -3,0 ‰      b) -1,6 ‰      c) 1,6 ‰      d) 2,9 ‰

1 50. Koja država ima najveću razliku između broja emigranata i imigranata?

a) Albanija      b) Bjelorusija      c) Moldavija      d) Slovenija