

27. DRŽAVNO
NATJECANJE IZ
GEOGRAFIJE

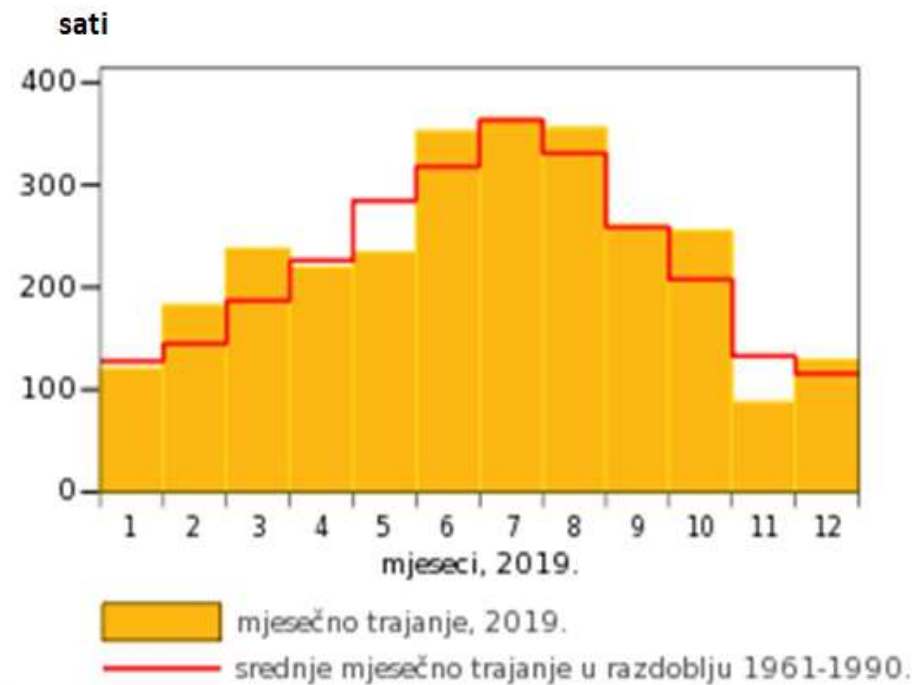
MULTIMEDIJALNI
ISPIT ZA
8. RAZRED

U PRVA ČETIRI ZADATKA DOPUNI REČENICE.

1. (2) Prvi popis stanovništva koji je cjelovito obuhvatio današnje područje Republike Hrvatske proveden je _____ godine.

Ime države u kojoj se Hrvatska nalazi u to vrijeme je _____.

Slika 1. Trajanje sisanja Sunca u satima



Izvor: DHMZ www.meteo.hr

2. (1) Koji je puni naziv podtipa klime za koju je karakteristična insolacija prikazana na slici **1**?

3. (2) Naziv za vrstu elektrana koja je isplativa za izgradnju u područjima s velikom insolacijom je _____ elektrana.

Ime otoka na kojem je ove 2020. godine dovršena i puštena u rad ovakva vrsta elektrane je _____.

4. (2) Na područje današnje Republike Kosovo doseljavali su Hrvati od 14. stoljeća, a krajem prošlog stoljeća u velikom broju iseljavali su se u Hrvatsku.

Koja su imena naselja u kojima danas na Kosovu žive preostali Hrvati?

_____ i _____.

SLJEDEĆI ZADATAK RIJEŠI UZ POMOĆ PRILOŽENE FOTOGRAFIJE.



5. (2) Ime strogog rezervata u kojemu je snimljena fotografija jest _____.

Ime planine na kojoj se nalazi strogi rezervat s fotografije jest _____.

SLJEDEĆI ZADATAK RIJEŠI UZ POMOĆ PRILOŽENIH FOTOGRAFIJA.

6. (3) Na crtu ispod svake fotografije upiši ime parka prirode ili nacionalnog parka na koji se slika odnosi: **NP Brijuni, NP Kornati, NP Krka, PP Lastovsko otočje, NP Mljet, NP Plitvička jezera, PP Telašćica, PP Vransko jezero.** Dva su imena višak.



U SLJEDEĆEM ZADATKU POVEŽI POJMOVE UPISIVANJEM SAMO JEDNOG SLOVA NA SVAKU CRTU ISPRED POJMA U LIJEVOM STUPCU. JEDAN POJAM IZ DESNOG STUPCA NE MOŽE SE POVEZATI.

7. (3) Poveži pojmove s odgovarajućim opisima.

_____ deagrarizacija

A) napuštanje sela kao mjesta stanovanja

_____ demografska tranzicija

B) sustav mjera i djelovanja kojima se želi utjecati na kretanje stanovništva

_____ deruralizacija

C) napuštanje poljoprivrede kao glavne djelatnosti

D) prijelaz s visoke stope rodности i smrtnosti na nisku stopu rodности i smrtnosti

E) smanjenje broja stanovnika nekog prostora

**U SVAKOM OD SLJEDEĆA ČETIRI ZADATKA DVA SU ODGOVORA TOČNA.
ZAKRUŽI SLOVA ISPRED TOČNIH ODGOVORA.**

8. (2) Koji su od navedenih otoka najsjeverniji?

- a) Lošinj b) Pag c) Pašman d) Rab e) Ugljan

9. (2) U kojima od navedenih organizacija Hrvatska ima najdulje članstvo?

- a) EU b) NATO c) MMF d) MOO e) OESS

10. (2) Koja od navedenih naselja imaju izgled akropolskog naselja?

- a) Fažana b) Grožnjan c) Labin d) Poreč e) Umag

11. (2) Koje od navedenih vrsta pripadaju vrsti plave ribe?

- a) brancin b) orada c) oslić d) skuša e) srdela

U SLJEDEĆA TRI ZADATKA POVEŽI PAROVE UPISIVANJEM SAMO JEDNOG SLOVA NA CRTU ISPRED PONUĐENIH ODGOVORA. TRI CRTE MORAJU OSTATI PRAZNE.

12. (2) Poveži fotografije hrvatskih otoka s njihovim imenima.



___ Borovnik (Kornati)

___ Lokrum

___ Galešnjak

___ Male Srakane

___ Gaz (Brijuni)

13. (2) Poveži umjetna jezera s općinom u kojoj se nalaze.

A) Lepenica

B) Perućko jezero

_____ Fužine

_____ Lokve

_____ Petrijanec

_____ Proložac

_____ Vrlika

14. (2) Poveži udaljenosti na geografskoj karti preračunate u udaljenosti u stvarnosti s mjerilima.

A) 12 cm na karti = 0,6 km u stvarnosti

B) 5 cm na karti = 1,25 km u stvarnosti

_____ 1 : 5000

_____ 1 : 50 000

_____ 1 : 25 000

_____ 1 : 250 000

_____ 1 : 500 000

15. (3) NA GEOGRAFSKOJ KARTI DIJELA PRIMORSKE HRVATSKE TRI SU POGREŠNA IMENA. PRONAĐI IH NA KARTI I PREPIŠI U PRVI STUPAC TABLICE, A U ISTI RED U DRUGI STUPAC UPIŠI TOČNA IMENA.

POGREŠNO IME	TOČNO IME



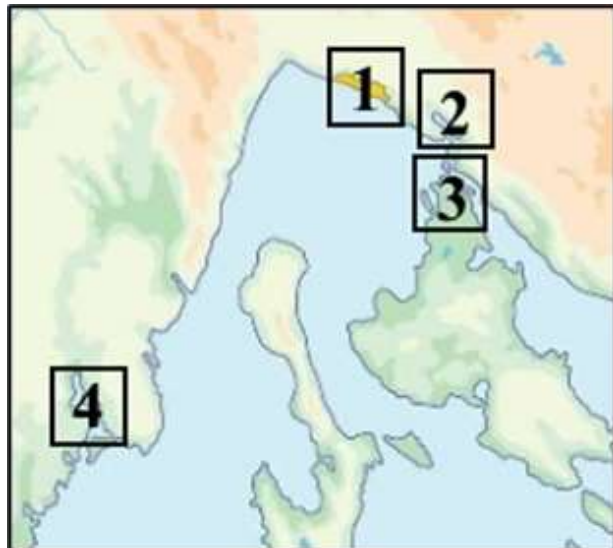
U SLJEDEĆEM ZADATKU POVEŽI PRIKAZANO PODRUČJE NA KARTI S PRILOŽENIM FOTOGRAFIJAMA UPISIVANJEM PRIPADAJUĆEG SLOVA I BROJA ISPRED POJMOVA U LIJEVOM STUPCU. JEDAN BROJ NA KARTI I JEDNA FOTOGRAFIJA NE MOGU SE POVEZATI.

16. (3) Poveži bazene riječkog lučkog kompleksa s njihovim geografskim smještajem i vrstom prometa odnosno tereta za koji je namijenjen.

___ bakarski

___ omišaljski

___ riječko-sušački



**U SLJEDEĆEM ZADATKU RAZVRSTAJ POJMOVE UPISIVANJEM SLOVA U ODGOVARAJUĆE
DIJELOVE KRUGOVA I NJIHOV POVEZANI DIO.**

17. (3) Navedene pojmove razvrstaj za navedene gradove.

A – Tvrđava Kamerlengo

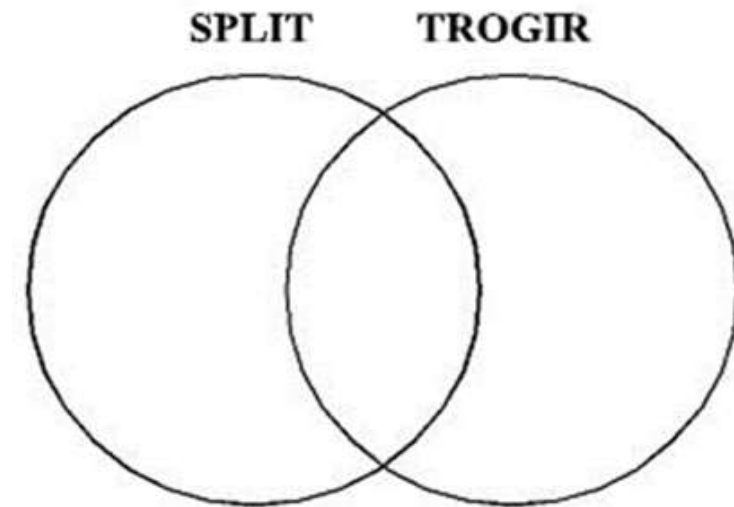
B – Peristil

C – na UNESCO-ovom popisu svjetske baštine

D – početak razvoja u 3. stoljeću prije Krista

E – početak razvoja u 3. stoljeću

F – srednja Dalmacija

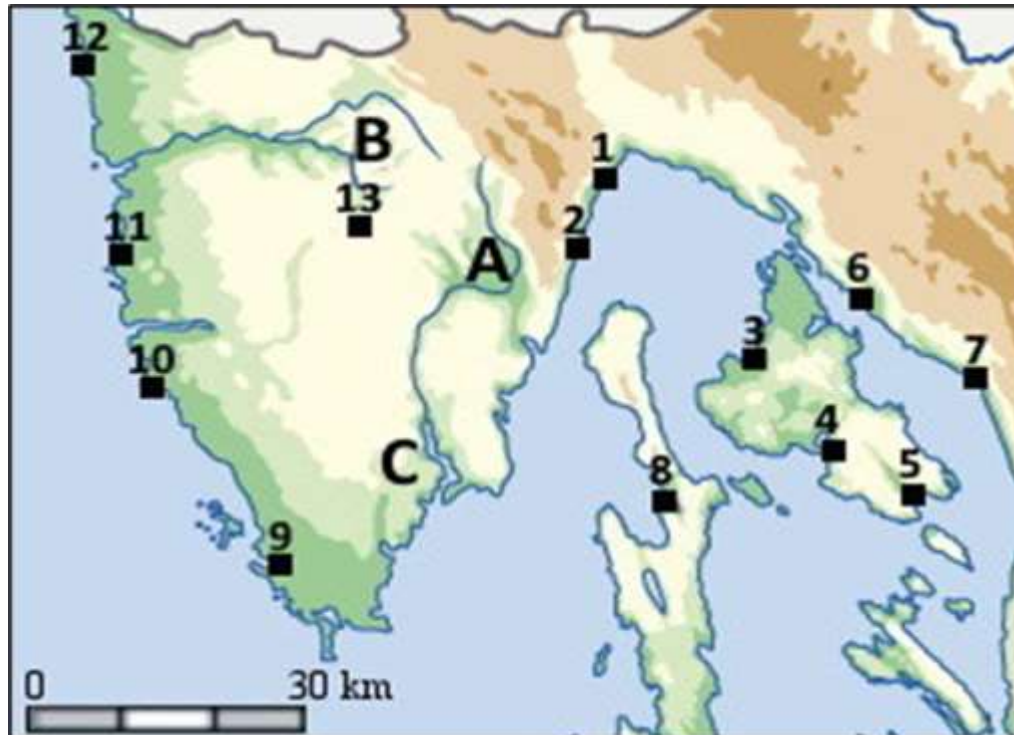


SLJEDEĆIH OSAM ZADATAKA RIJEŠI UZ POMOĆ FOTOGRAFIJA I KARTE DIJELA PRIMORSKE I GORSKE HRVATSKE.

18. (2) Ime grada u kojem je u Hrvatskoj otvoren prvi hotel je _____, a na priloženoj karti označen je brojem _____.

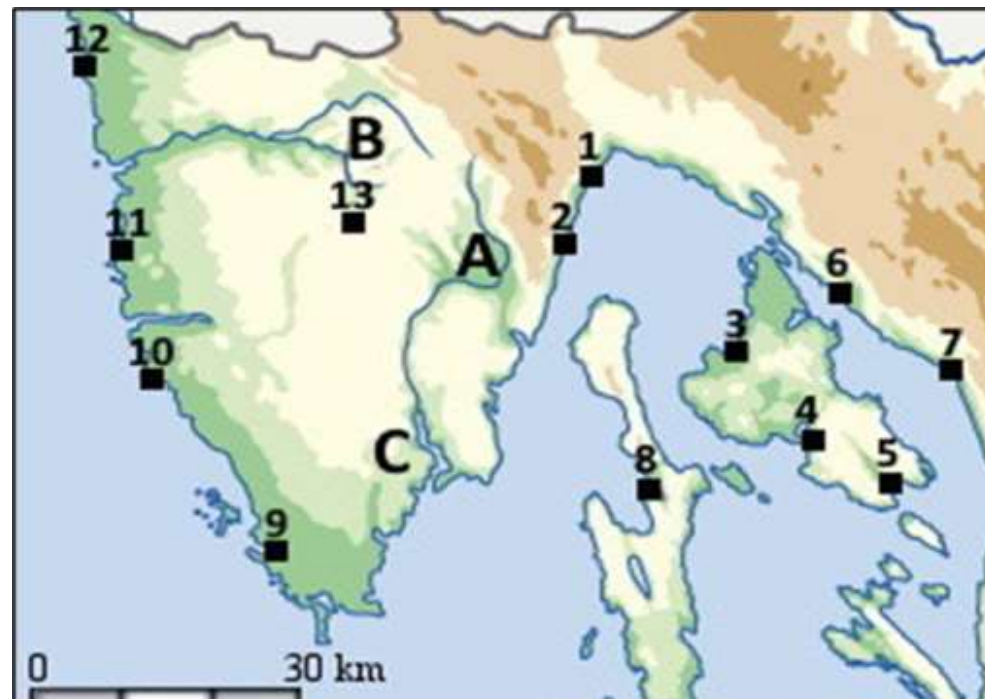
Fotografija 1 prikazuje hotel „Therapia” u blizini kojeg se danas nalazi lječilište talasoterapijom za dišne bolesti.

Ime grada u kojem se nalazi ovaj hotel je _____, a na priloženoj karti označen je brojem _____.



19. (2) Fotografija 2 prikazuje zvjezdarnicu Tićan nedaleko Višnjana. Naselju u kojemu je ova zvjezdarnica najbliži grad na obali mora prikazan na priloženoj karti je _____ (upiši ime grada), a na priloženoj karti označen je kvadratićem i brojem _____.

Ime grada u kojem se nalazi upravno sjedište županije u kojoj se nalazi ova zvjezdarnica je _____, a na priloženoj karti taj je grad označen kvadratićem i brojem _____.



20. (2) Naziv nizinskog reljefnog oblika na istoku Hrvatske koji prikazuje fotografija je _____.

Naziv materijala koji čini ovaj reljefni oblik je _____.



U SLJEDEĆA DVA ZADATKA DOPUNI REČENICE.

21. (2) Naziv za vrstu tla koja se nalazi neposredno uz tokove velikih rijeka u Panonskoj Hrvatskoj je

_____ tlo.

Naziv za najrasprostranjeniju vrstu tla u Panonskoj Hrvatskoj je _____ tlo.

22. (1) Postupak kojim se poboljšava kvaliteta tla odvodnjavanjem ili natapanjem nazivamo

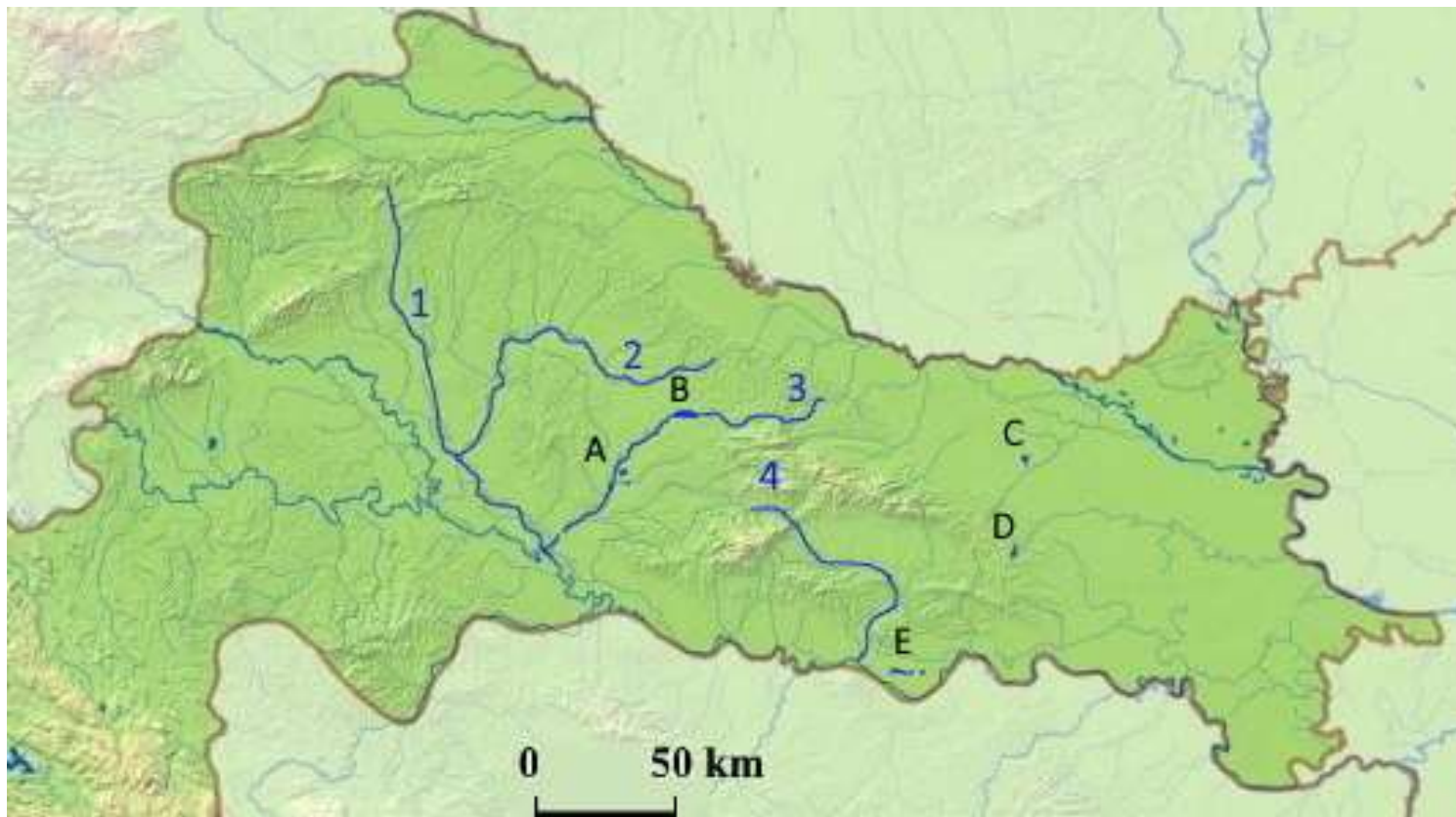
_____.

SLJEDEĆI ZADATAK RIJEŠI POMOĆU PRILOŽENE TABLICE.

23. (2) Tablica prikazuje pet najviših uzvisina Panonske Hrvatske. U tablicu upiši podatke koji nedostaju.

Ime gore	Najviši vrh	Nadmorska visina (u metrima)
Žumberačka gora		1178
Ivanščica	Ivanščica	1060
Medvednica	Sljeme	1033
	Brezovo polje	984
Papuk	Papuk	953

SLJEDEĆA TRI ZADATAKA RIJEŠI UZ POMOĆ KARTE PANONSKE HRVATSKE.



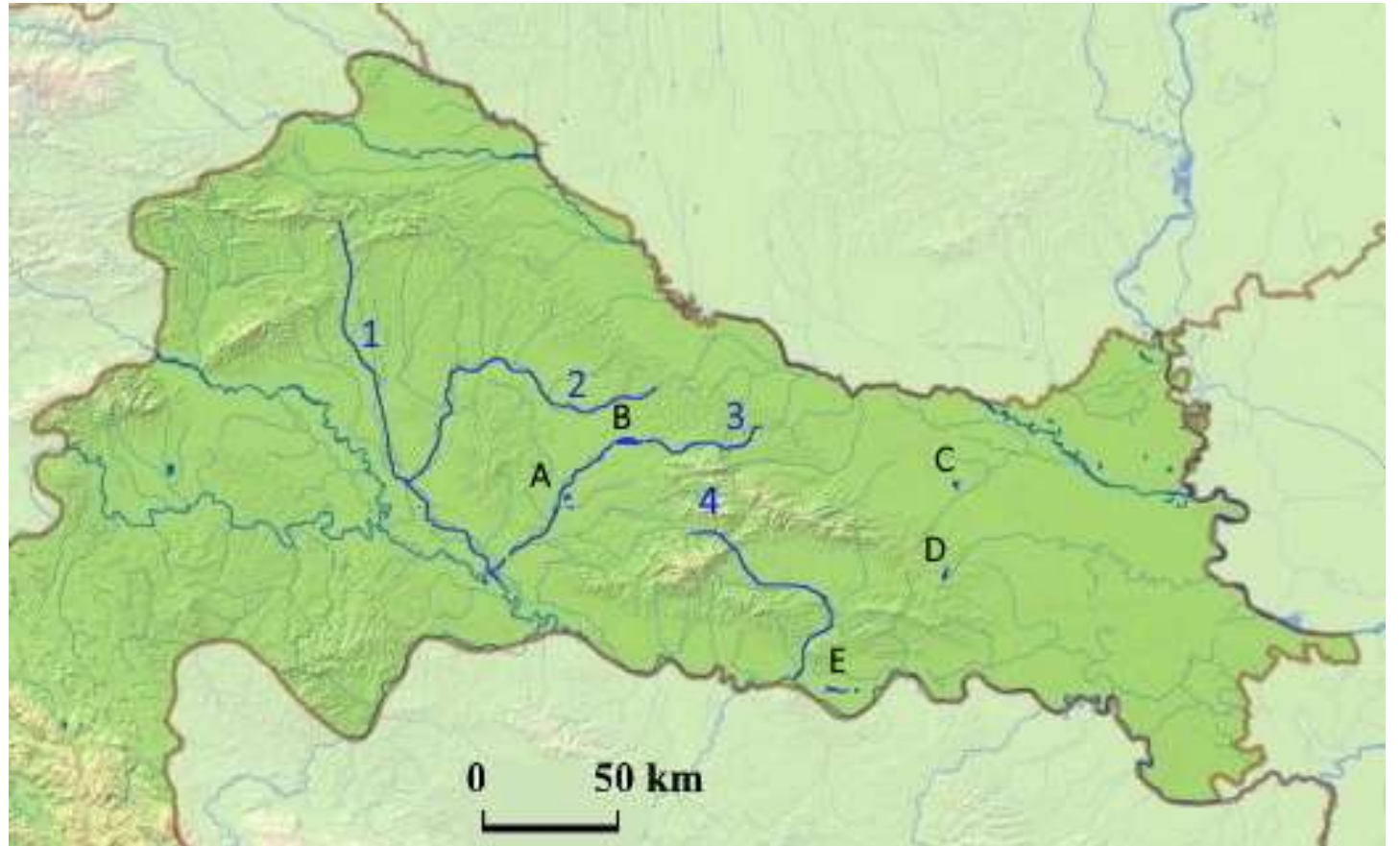
24. (3) Rijeka Lonja je na priloženoj karti Panonske Hrvatske označena brojem _____. Ime uzvisine na kojoj ova rijeka ima izvor je _____, a ime zamočvarenog dijela poloja kojim teče u donjem dijelu svog toka je _____.

25. (2) Ime rijeke koja je na priloženoj karti Panonske Hrvatske označena brojem **3** je _____. Ime uzvisine na kojoj se nalazi izvor ove rijeke je _____.

U SLJEDEĆEM ZADATKU POVEŽI POJMOVE I PRIKAZAN SADRŽAJ NA KARTI UPISIVANJEM SAMO JEDNOG SLOVA NA CRTU ISPRED POJMOVA U LIJEVOM STUPCU. JEDNO SLOVO S KARTE NE MOŽE SE POVEZATI.

26. (2) Poveži imena ribnjaka s njihovim smještajem na karti.

- _____ Jasinje
- _____ Ribnjaci Našička Breznica
- _____ Ribnjaci Poljana
- _____ Velika Končanica



SLJEDEĆIH SEDAM ZADATAKA RIJEŠI UZ POMOĆ TABLICE I KARTE DIJELA GORSKE HRVATSKE.

TABLICA 1. Prirodno kretanje stanovništva za odabrane Gradove i općine Gorske Hrvatske u 2018. godini.

Grad/ Općina	Stopa rodnosti ‰	Stopa smrtnosti ‰	Stopa prirodne promjene ‰
Brod Moravice		27,7	-18,5
Brinje	6,1	19,9	-13,8
Čabar	4,8	13,3	-8,5
Delnice	9,4	15,9	-6,5
Fužine	6,3	16,4	-10,1
Plaški	11,3		-12,9
Ravna Gora		15,2	-9,4
Skrad	3,8	16,9	
Vrbovsko	4,4	18,3	-13,9

Stanovništvo prema starosti i spolu po naseljima, popis 2011., www.dzs.hr
Prirodno kretanje stanovništva Republike Hrvatske u 2018. godini, DZS, Zagreb 19. srpnja 2019.

27. (2) Izračunaj i upiši u odgovarajuća polja u tablici podatke koji nedostaju.

28. (1) Ime županije u kojoj se nalazi većina upravnih gradova i općina iz tablice **1.** je _____
županija.

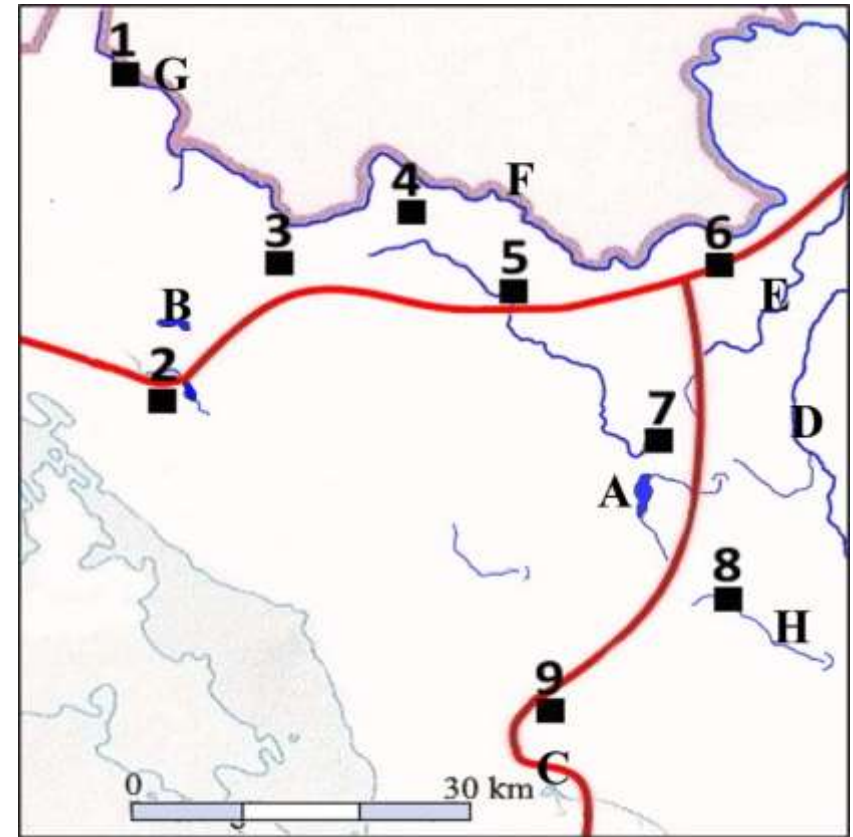
29. (2) Većina Gradova i općina iz tablice **1.** pripadaju istoj županiji, a dvije općine iz tablice ne pripadaju toj županiji. Imena tih dviju općina upiši na kraće crte, a na dulje crte upiši imena županija u kojima se nalaze.

_____, _____
_____, _____

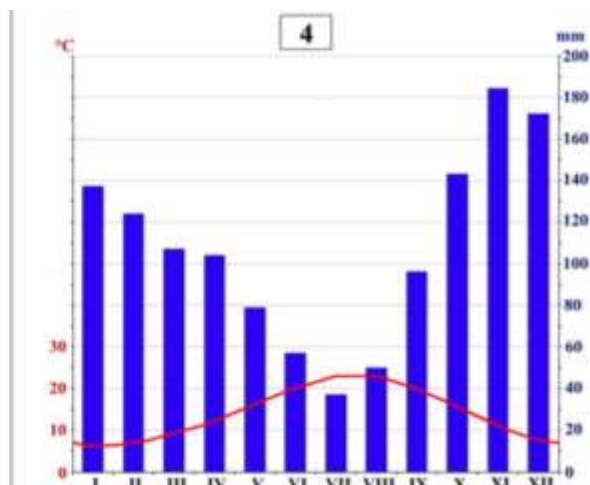
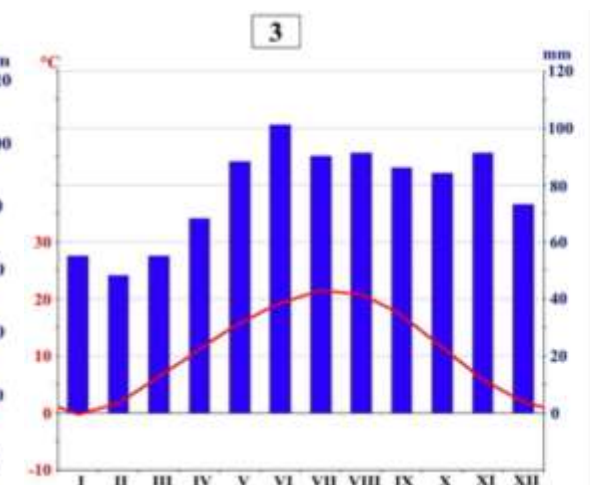
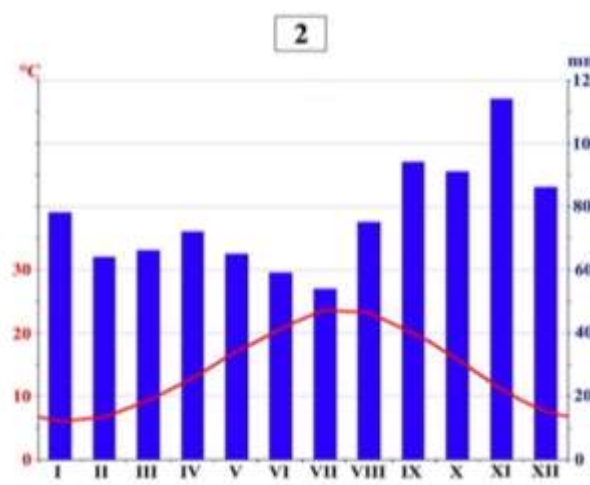
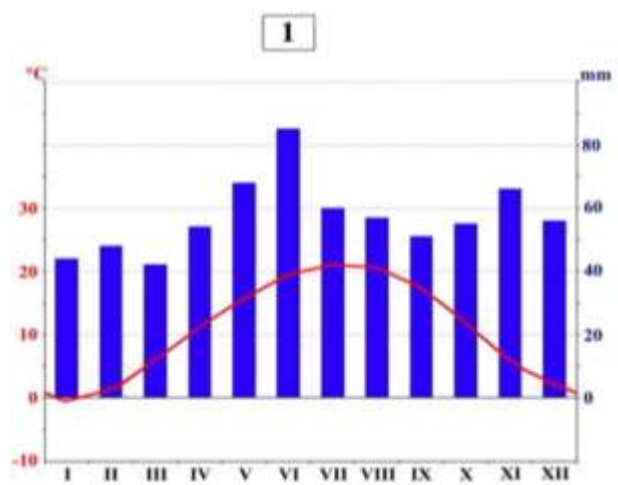
30. (1) Ime općine s najvećim prirodnim padom jest _____, a sjedište te općine na priloženoj geografskoj karti označeno je brojem ____.

31. (1) Ime upravnog grada s najmanjom stopom rodnošći jest _____, a na priloženoj karti njegovo sjedište označeno je brojem ____.

32. (2) Na priloženoj karti Gorske Hrvatske jezero Sabljaki je označeno slovom ____.
Rijeka Mrežnica je označena slovom _____.



SLJEDEĆA TRI ZADATKA RIJEŠI UZ POMOĆ KLIMATSKIH DIJAGRAMA.



33. (2) Umjerenom toplom vlažnom klimom s toplim ljetom prikazana je na klimatskim dijagramima označenim brojevima ____ i ____.

34. (1) Količina padalina za razdoblje klimatološkog ljeta na klimatskom dijagramu 3 iznosi _____ (Izračunaj količinu padalina).

U POSLJEDNJEM ZADATKU POVEŽI POJMOVE UPISIVANJEM SAMO JEDNOG SLOVA NA CRTU ISPRED POJMOVA U LIJEVOM STUPCU. JEDAN POJAM IZ DESNOG STUPCA NE MOŽE SE POVEZATI.

35. (2) Poveži klimatske dijagrame iz prethodnog zadatka s gradovima na koje se odnose.

_____ klimatski dijagram **1**

A) Dubrovnik

_____ klimatski dijagram **2**

B) Gospić

_____ klimatski dijagram **3**

C) Pula

_____ klimatski dijagram **4**

D) Osijek

E) Zagreb