

27. DRŽAVNO
NATJECANJE IZ
GEOGRAFIJE

MULTIMEDIJALNI
ISPIT ZA
5. RAZRED

U SVAKOM OD PRVIH PET ZADATAKA DVA SU TOČNA ODGOVORA.
ZAKRUŽI SLOVA POVEZANA S TOČNIM ODGOVORIMA.

1. (2) S kojim današnjim državama Hrvatska ima granice koje, najvećim dijelom, potječu iz srednjeg vijeka?

- a) Bosnom i Hercegovinom
- b) Crnom Gorom
- c) Italijom
- d) Mađarskom
- e) Slovenijom

2. (2) U koje regije Europe svrstavamo Hrvatsku?

- a) u Istočnu Europu
- b) u Južnu Europu
- c) u Sjevernu Europu
- d) u Srednju Europu
- e) u Zapadnu Europu

3. (2) Koje su od navedenih rijeka ponornice?

- a) Jadro
- b) Krbava
- c) Ombla
- d) Pazinčica
- e) Rječina

4. (2) Koja su od navedenih umjetna jezera?

- a) Baćinska jezera
- b) Crveno jezero
- c) Dubravsko jezero
- d) Perućko jezero
- e) Vransko jezero na Cresu

5. (2) Koji su od navedenih reljefnih oblika krški oblici nastali na površini?

- a) lesna zaravan
- b) pobrđe
- c) poloj
- d) ponikva
- e) škrapa

SLJEDEĆIH SEDAM ZADATAKA RIJEŠI UPISIVANJEM ODGOVORA NA CRTE.

6. (1) Koja rijeka crnomorskog slijeva u Hrvatskoj, koja je ujedno i desni pritok rijeke Dunav, ima snježno-kišni režim? _____

7. (2) Koja svojstva mora ovise o količini planktona?

_____ i _____.

8. (1) Ime svemirskog tijela koji ima jači utjecaj na pojavu plime i oseke je

_____.

9. (2) Pojedina močvarna područja zaštićena su i proglašena parkom prirode. Ime takvog područja u Baranji je _____, a ime takvog

područja u Posavini je _____.

10. (1) Ime kontinenta preko kojeg prolaze meridijani svih stupnjeva je _____.

11. (1) Naziv koncepta prema kojem je važno odgovorno upotrebljavati sva prirodna bogatstva je _____.

12. (2) Naziv za vodu u plinovitom agregacijskom stanju je _____.

Iako se voda u podzemlju može pojaviti u sva tri agregacijska stanja, najviše je ima u _____ agregacijskom stanju.

U SLJEDEĆA TRI ZADATKA POVEŽI STUPCE UPISIVANJEM ODGOVARAJUĆIH SLOVA NA CRTE ISPRED ZADANIH POJMOVA. U SVAKOM ZADATKU JEDNO SLOVO NE MOŽE SE POVEZATI.

13. (2) Poveži rijeku s najzastupljenijim načinom iskorištavanja u Hrvatskoj.

A) Drava

B) Dunav

C) Gacka

D) Kupa

E) Krka

_____ hidroenergija

_____ promet

_____ ribolov

_____ turizam

14. (2) Poveži tradicijsku regiju s gradom koji se u njoj nalazi.

A) Beli Manastir

B) Krapina

C) Metković

D) Motovun

E) Požega

_____ Baranja

_____ Dalmacija

_____ Istra

_____ Slavonija

15. (2) Poveži županijsko središte s pripadajućom županijom.

A) Čakovec

B) Gospić

C) Gračac

D) Pazin

E) Rijeka

_____ Istarska županija

_____ Međimurska županija

_____ Ličko-senjska županija

_____ Primorsko-goranska županija

U SLJEDEĆEM ZADATKU POVEŽI POJMOVE UPISIVANJEM SLOVA
NA ODGOVARAJUĆE CRTE. TRI CRTE MORAJU OSTATI PRAZNE.

16. (2) Poveži navedene prirodnogeografske regije s pripadajućom gorom ili
planinom.

A Gorska Hrvatska B Primorska Hrvatska

_____ Dinara _____ Ivanščica _____ Krndija _____ Mala Kapela _____ Papuk

U SLJEDEĆA ČETIRI ZADATKA U PAROVIMA POJMOVA KOJI SU
PODEBLJANI I ODVOJENI KOSIM CRTAMA U CIJELOSTI ZAOKRUŽI
ONE POJMOVE KOJI SU TOČNI.

17. (2) Većina vode na Zemlji je **slana / slatka** voda. Najveći dio slatke vode nalazi se u **čvrstom / tekućem** agregacijskom stanju. Najveće površine slane vode nazivaju se **mora / oceani**. Susjedna mora ili oceane povezuju morski prolazi. Morski prolazi koje su prokopali ljudi nazivaju se **kanali / tjesnaci**.

18. (1) Jadransko more **manje je slano / slanije je** od svjetskog prosjeka. U dvije litre vode iz Jadranskog mora u prosjeku je otopljeno **66 / 76** grama soli.

19. (2) Valovi su jedno od **gibanja / svojstava** mora. Najviše valove u Jadranskom moru stvara **bura / jugo**.

Zajednički naziv za plimu i oseku je **morske faze / morske mijene**. Spuštanje razine mora naziva se **plima / oseka**.

20. (1) Na pojedinim dijelovima Primorske Hrvatske, kao što su prostor Vinodola, Ravnih kotara ili Konavala, nalazi se nepropustan materijal koji se naziva **fliš / les**. Takav materijal pogoduje razvoju **neplodnog / plodnog** tla.

SLJEDEĆA TRI ZADATKA RIJEŠI UZ POMOĆ SATELITSKE SNIMKE, FOTOGRAFIJE ILI CRTEŽA.

21. (3) Koji je naziv vrste riječnog ušća prikazanog na satelitskoj snimci desno?

_____.

Koje dvije od navedenih rijeka imaju takvu vrstu ušća?

Dunav, Neretva, Mississippi, La Plata, Temza, Volga

_____ i

_____.



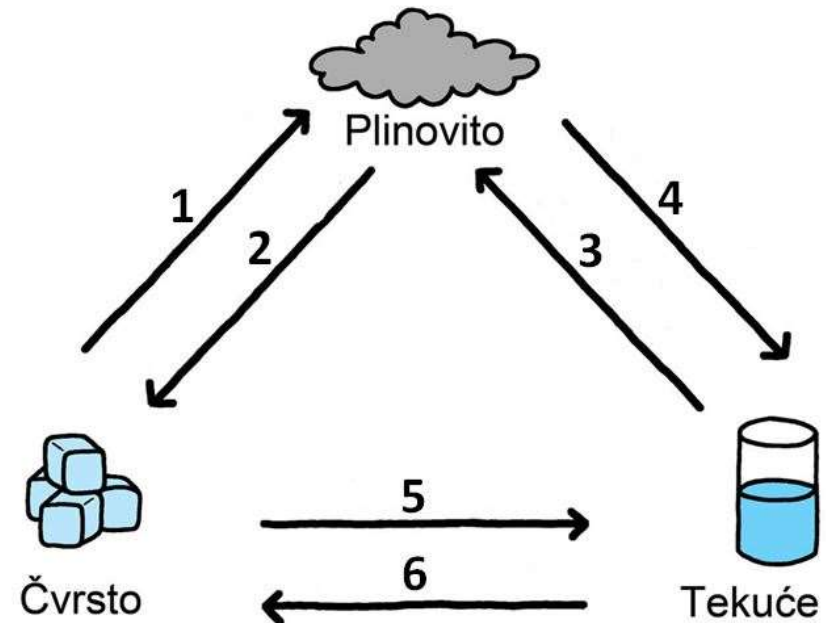
22. (2) Koja je svrha iskorištavanja mora prikazanog na fotografiji desno?

_____.

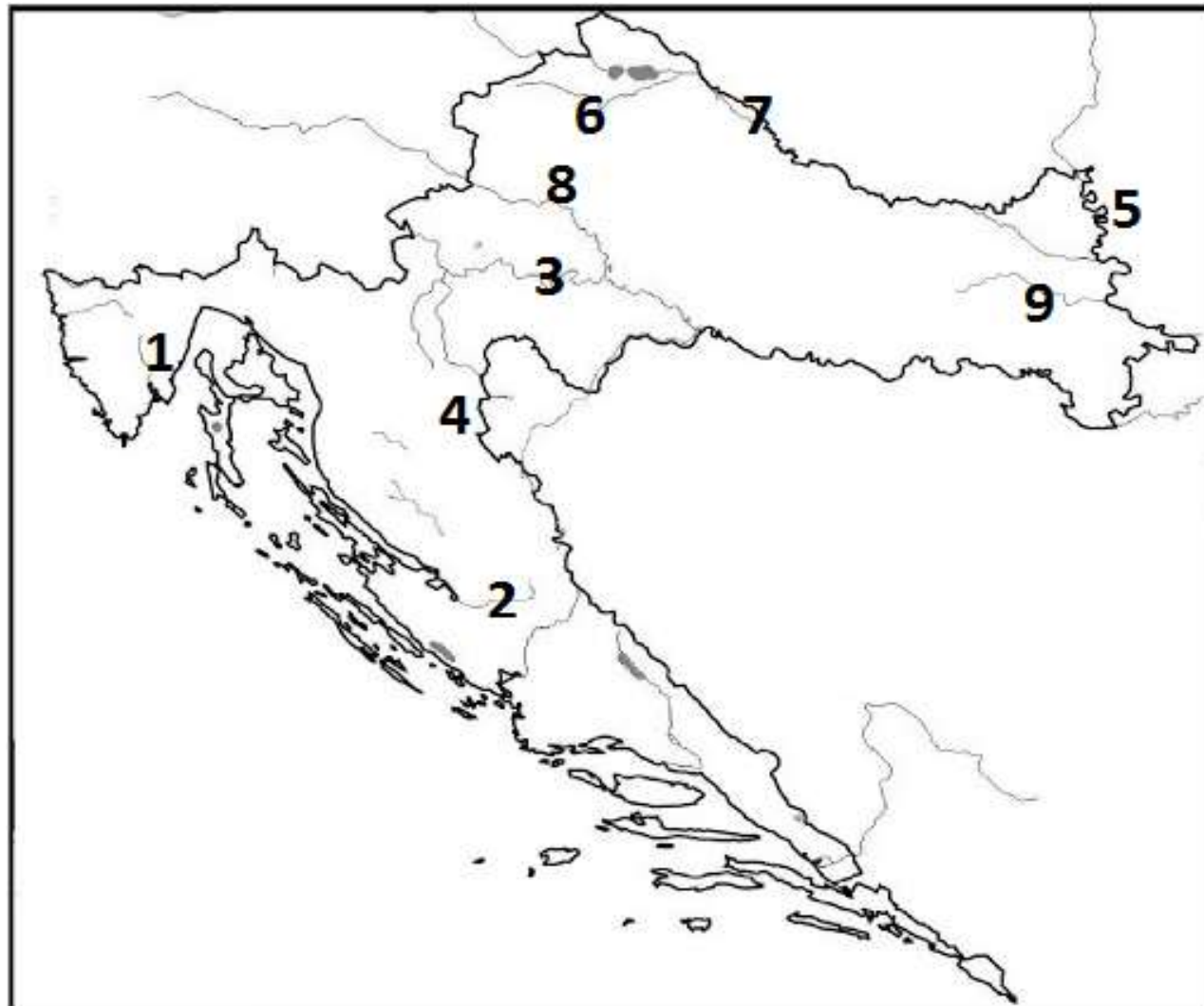
Na taj se način Jadransko more iskorištava na otoku čije je ime _____.



23. (2) Na crtežu desno strelica koja označava isparavanje označena je brojem _____, a strelica koja označava kondenzaciju označena je brojem _____.



SLJEDEĆA ČETIRI ZADATKA RIJEŠI UZ POMOĆ GEOGRAFSKE KARTE.



24. (2) Brojem **6** na priloženoj karti označen je _____ (upiši jedno od: **desni**; **lijevi**) pritok koji se ulijeva u rijeku čije je ime _____ .

Brojem **3** na priloženoj karti označen je _____ (upiši jedno od: **desni**; **lijevi**) pritok koji se ulijeva u rijeku čije je ime _____ .

25. (3) Na crte iza brojeva upiši imena rijeka označenih na priloženoj karti brojevima 1, 2 i 3.

1 _____

2 _____

3 _____

26. (2) Kojim su brojevima na priloženoj karti označene rijeke jadranskog slijeva?

_____ i _____

27. (3) Brojem **4** na priloženoj karti označena su jezera čije je ime

_____.

Prema postanku, to su _____ jezera.

Ime županije u kojoj su najvećim dijelom smještena ta jezera je

_____.

SLJEDEĆA ČETIRI ZADATKA RIJEŠI UZ POMOĆ GEOGRAFSKE KARTE.



28. (2) Brojem **6** na priloženoj karti označeno je jezero čije je ime _____ . Voda tog jezera je _____ (upiši jedno od: **slana; slatka**).

29. (3) Na crte iza brojeva upiši imena rijeka označenih brojevima 1, 2 i 3 na priloženoj karti.

1 _____

2 _____

3 _____

30. (2) Rijeka koja teče kontinentom Novog svijeta koji se cijelom površinom nalazi istočno od početnog meridijana označena je na priloženoj karti brojem _____.

Naziv vrste ušća kakvo ima rijeka označena na priloženoj karti brojem **5** je _____.

31. (2) Brojem **7** na priloženoj karti označeno je najdublje jezero svijeta, a njegovo ime je _____ jezero.

To jezero primjer je kriptodepresije, što znači da je površina jezera _____ u odnosu na površinu mora, a dno jezera je _____ u odnosu na površinu mora.

SLJEDEĆA DVA ZADATKA RIJEŠI UZ POMOĆ GEOGRAFSKE KARTE.



32. (2) Kojim su brojevima na priloženoj karti označeni društvenogeografski elementi? _____ i _____

33. (2) Što je na priloženoj geografskoj karti označeno zelenom bojom?

_____.

Na priloženoj geografskoj karti Bogovići se nalaze
_____ (upisati naziv strane svijeta) u odnosu na
Radiće.

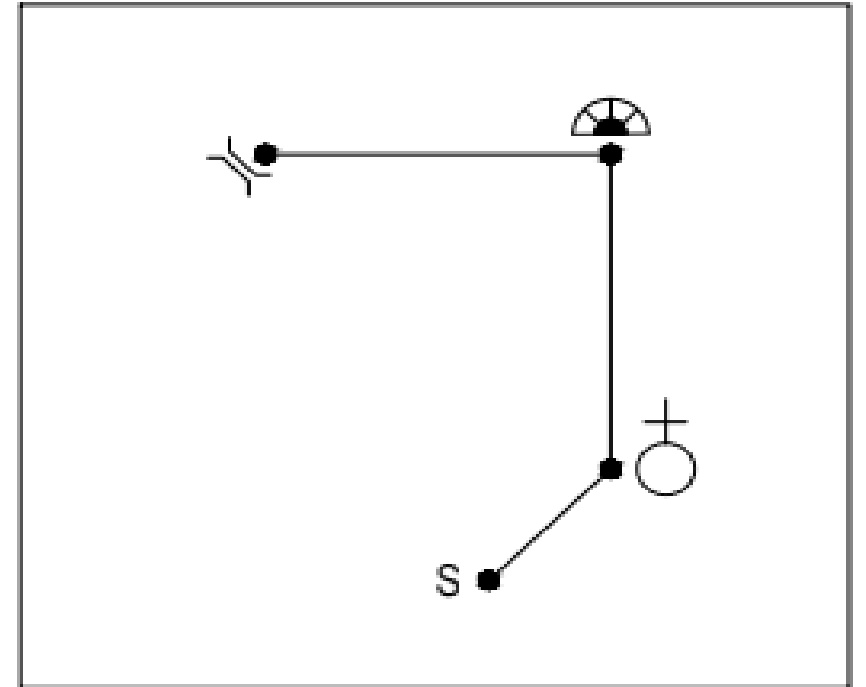
SLJEDEĆI ZADATAK RIJEŠI POMOĆU SKICE.

34. (3) Koji objekt označava topografski znak koji se nalazi sjeverno od crkve?

Most se nalazi _____ (upisati stranu svijeta) u odnosu na crkvu.

Na ovoj skici 2 cm prikazuju udaljenost od 1 km u prirodi. U kojem je mjerilu izrađena ova skica?

_____.



POSLEDNJI ZADATAK RIJEŠI PISANJEM ODGOVORA PUNIM REČENICAMA.

35. (3) Neke rijeke u Hrvatskoj (npr. Cetina, Zrmanja...) i svijetu (npr. Chang Jiang...) koriste se za dobivanje hidroenergije.

Punim rečenicama opiši najmanje tri prednosti i tri nedostatka izgradnje hidroelektrana.