

ŽUPANIJSKO NATJECANJE IZ GEOGRAFIJE 2019. GODINE

Razred ili kategorija natjecanja: 7. razred

Zaporka

--	--	--	--	--

Broj postignutih bodova ____ / 70

Potpis članova Županijskog povjerenstva

1. _____

2. _____

3. _____

Mjesto i nadnevak: _____

Za rješavanje zadataka predviđeno je 60 minuta.

Ispit se rješava kemijskom olovkom s plavom tintom koja se ne briše. Uporaba obične olovke i crvene ili neke druge boje tinte (osim plave) rezultira diskvalifikacijom učenika.

Pri rješavanju ispita treba primijeniti jezičnu normu standardnoga hrvatskoga jezika, posebice treba poštivati pravopisna pravila o pisanju velikoga i maloga početnog slova geografskih imena. Za pisanje geografskih imena u ispitima i praktičnim radovima primjenjuje se Hrvatski pravopis Instituta za hrvatski jezik i jezikoslovje (2013.).

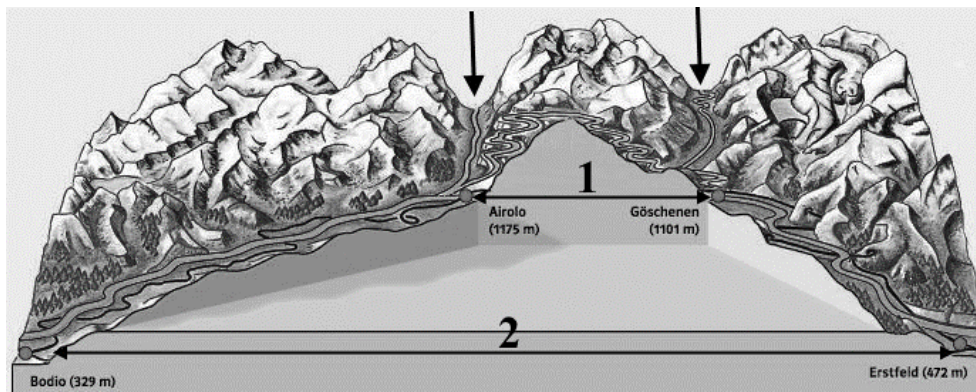
Odgovori učenika moraju biti čitljivo napisani pisanim slovima, jedino u zadacima u kojima je odgovor jedno slovo dopuštena je uporaba čitljivo napisanog velikog tiskanog slova.

Za vrijeme pisanja ispita ne smije se koristiti ništa osim navedenoga pribora za pisanje. Ova odredba podrazumijeva da natjecatelji ne smiju kod sebe (na sebi, ispod, u svojoj odjeći i slično) imati predmete koji na bilo koji način mogu dovesti u sumnju pravilno provođenje natjecanja. Učenici se ne smiju služiti atlasom, zidnom kartom ni računalom. Kartografski i grafički prilozi nužni za rješavanje zadataka sastavni su dio ispita.

Učenicima se dopušta pisanje po marginama i praznim stranicama ispitnog materijala bez oduzimanja bodova i/ili diskvalifikacije.

Potpuno ispravno riješeni zadatci, prema uputi za rješavanje vrednuju se s jednim, dva ili tri boda. U djelomično ispravno riješenim zadacima boduju se ispravno riješene čestice, ako nije bilo korekcije odgovora u tim česticama. Netočno riješeni zadatci i naknadno ispravljeni odgovori te odgovori koji su pisani velikim tiskanim slovima ili kombinacijom tiskanih i pisanih slova, kao i odgovori u zagradama ne vrednuju se.

PRVA DVA ZADATKA RIJEŠI UZ POMOĆ PRILOŽENE SLIKE.

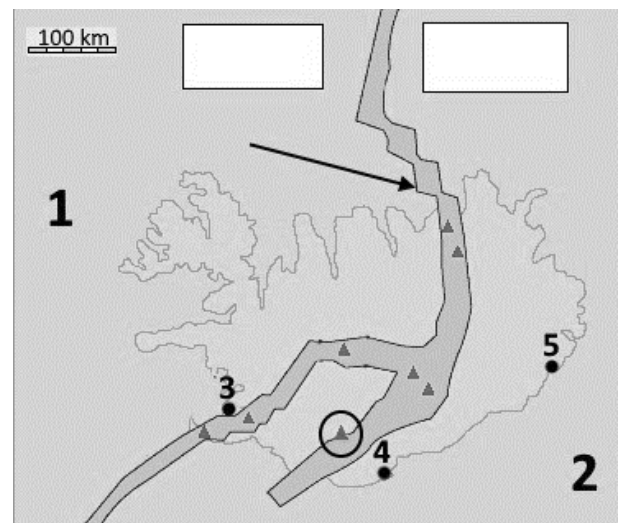


Slika 1

1. Godine 2016. u promet je pušten Gotardski bazni tunel čija je trasa na priloženoj slici označena brojem 2. Ime države u kojoj se nalazi ovaj tunel je _____.
- Vrsta kopnenog prometa za koji je namijenjen ovaj tunel je _____ promet.
2. Naziv reljefnog oblika označenog strelicama, koji je imao veliku važnost do izgradnje tunela u tom području je _____.

SLJEDEĆIH PET ZADATAKA RIJEŠI UZ POMOĆ PRILOŽENE KARTE ISLANDA.

3. Ime litosferne ploče označene brojem 1 je _____ ploča, a ime litosferne ploče označene brojem 2 je _____ ploča.
4. U pravokutnike ucrtaj strelice koje prikazuju smjer pomicanja ovih litosfernih ploča. Crnom strelicom označen je reljefni oblik nastao pomicanjem litosfernih ploča. Naziv tog reljefnog oblika je _____.



5. Kružnicom je označen najaktivniji vulkan na Islandu. Ime ovog vulkana je _____. Osim vulkana na Islandu se nalaze i izvori koji izbacuju vruću vodu i paru u vis i nazivaju se _____ i izvori vulkanske pare i plinova koji se nazivaju _____.
6. Naziv za obnovljivi izvor energije koji se koristi na Islandu je _____ energija.
7. Ime najvećeg grada Islanda je _____ i na karti je označen točkom i brojem _____.

SLJEDEĆA TRI ZADATKA RIJEŠI UZ POMOĆ PRILOŽENE KARTE
DIJELA SJEVERNE EUROPE

8. Na priloženoj karti su brojevima 1, 2 i 3 označeni morski zaljev, otok i morski prolaz. Na crte iza brojeva upiši njihova imena.

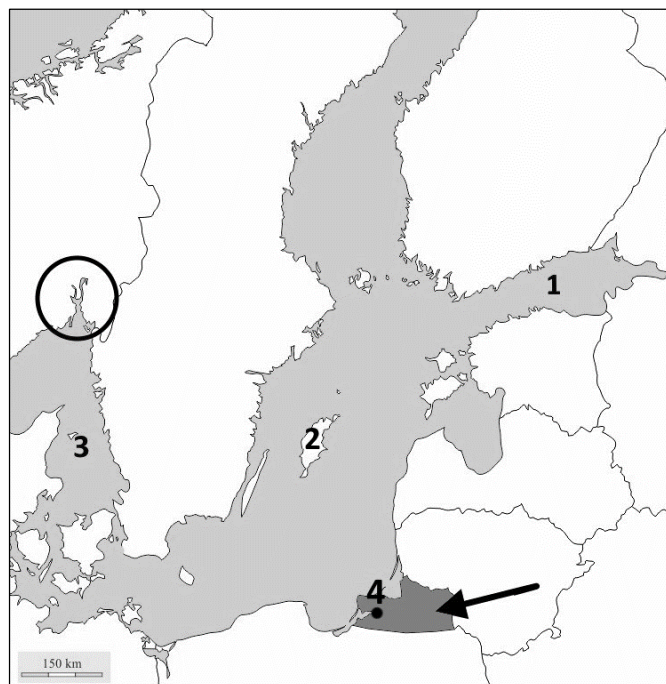
1 _____

2 _____

3 _____

9. Naziv za vrstu zaljeva koji je na priloženoj karti označen kružnicom je _____.

Ime najvećeg grada koji se nalazi u označenom zaljevu je _____.



10. Na karti je označeno strelicom i tamno sivom bojom područje koje je sastavni dio teritorija države čije je ime _____.

Ime grada označenog točkom i brojem 4 je _____.

U SVAKOM OD SLJEDEĆIH PET ZADATAKA DVA SU ODGOVORA TOČNA.
ZAOKRUŽI SLOVA ISPRED TOČNIH ODGOVORA.

11. Koji od navedenih jezika **ne pripadaju** germanskoj skupini?

a) danski b) flamanski c) irski d) norveški e) valonski

12. Kroz koje od navedenih gradova protječe rijeka Dunav?

a) Regensburg b) Salzburg c) Linz d) Szeged e) Pečuh

13. Koje su od navedenih država monarhije?

a) Malta b) Monako c) San Marino d) Finska e) Španjolska

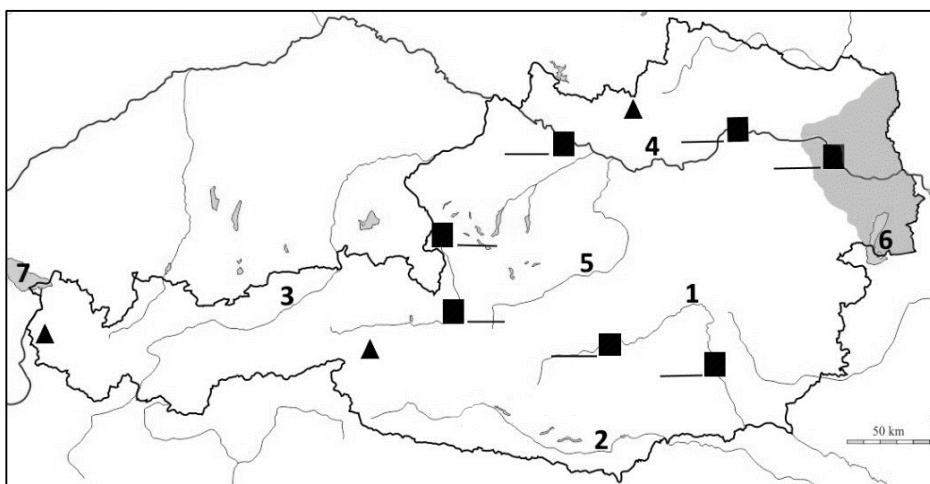
14. Koji od navedenih gradova **ne pripadaju** gradskoj regiji Ruhr?

a) Bielefeld b) Bochum c) Dortmund d) Duisburg e) Koblenz

15. Koji se od navedenih gradova nalaze u Litvi?

a) Ventspils b) Kaunas c) Tartu d) Klaipeda e) Turku?


**SLJEDEĆIH DEVET ZADATAKA RIJEŠI UZ POMOĆ
PRILOŽENE KARTE AUSTRIJE I FOTOGRAFIJA.**



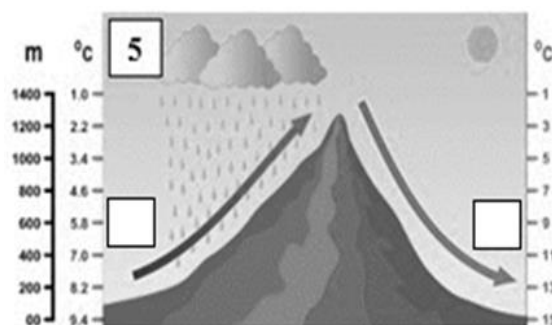
- 3** 16. Ime područja označenog na karti sivom bojom koje je najnaseljeniji dio Austrije je _____ . Imena planinskih lanaca između kojih se nalazi ovo područje su _____ i _____ .
- 2** 17. Ime austrijske pokrajine kroz koju teče rijeka označena brojem 2 je _____ . Ime naroda koji je u ovoj pokrajini čini nacionalnu manjinu je _____ .
- 2** 18. Slika 2 prikazuje dvorac Schönbrunn koji se nalazi u gradu čije je ime _____ . Na priloženoj karti označi ovaj grad upisivanjem slova **A** na crtu uz odgovarajući kvadratić. Slika 3 prikazuje rodnu kuću Mozarta koja se nalazi u gradu čije je ime _____ . Na priloženoj karti označi ovaj grad upisivanjem slova **B** na crtu uz odgovarajući kvadratić.
- 2** 19. Rijeka Mura je na priloženoj karti označena brojem _____. Ime velikog austrijskog grada koji se nalazi na ovoj rijeci je _____. Na priloženoj karti označi ovaj grad upisivanjem slova **C** na crtu uz odgovarajući kvadratić.
- 2** 20. Rijeka Inn je na priloženoj karti označena brojem _____. Ime rijeke u koju utječe je _____ .

- 1** 21. Slika 4 prikazuje najviši vrh Austrije. Ime ovog vrha je _____ .

Na priloženoj karti zaokruži trokut koji prikazuje položaj ovog vrha.



- 2** 22. Strelice na slici 5 prikazuju puhanje jedne vrste vjetra u Alpama. S obzirom na temperature zraka na slici tu vrstu vjetra nazivamo _____. U kvadratiće na slici upiši na hrvatskom prva slova glavnih strana svijeta.



- 1 23. Ime jezera označenog na priloženoj karti brojem 6 je _____.
- 3 24. Ime jezera označenog na priloženoj karti brojem 7 je _____,
a prema postanku zavale to jezero ubrajamo u skupinu čiji je naziv _____
jezera. Ime države u kojoj se nalazi najveći dio površine tog jezera je _____.

**U SLJEDEĆEM ZADATKU POVEŽI SREDNJI I DESNI STUPAC S LIJEVIM
UPISIVANJEM PRIPADAJUĆEG SLOVA I BROJA NA CRTU ISPRED POJMOVA U LIJEVOM
STUPCU. DVA POJMA IZ SREDNJEG I DVA POJMA IZ DESNOG STUPCA
NE MOGU SE POVEZATI.**

- 3 25. Imenu gore odnosno planine pridruži planinski lanac odnosno gorje i jednu državu u kojoj se nalazi.
- | | | |
|-----------------|-------------------------|---------------|
| _____ Karavanke | 1 – Skandinavsko gorje | A – Austrija |
| _____ Beskidi | 2 – Karpati | B – Poljska |
| _____ Šumava | 3 – Njemačko sredogorje | C – Norveška |
| | 4 – Češko sredogorje | D – Češka |
| | 5 – Alpe | E – Švicarska |

**U SLJEDEĆA DVA ZADATKA POVEŽI POJMOVE UPISIVANJEM SAMO
JEDNOG SLOVA NA CRTU ISPRED POJMA U LIJEVOM STUPCU.
JEDAN POJAM IZ DESNOG STUPCA NE MOŽE SE POVEZATI.**

- 2 26. Rijekama pridruži njihovo obilježje.
- | | |
|---------------|----------------------------------|
| _____ Loire | A) teče kroz pokrajinu Champagne |
| _____ Garonne | B) izvire u Švicarskim Alpama |
| _____ Rhône | C) pritoka rijeke Rhône |
| _____ Saone | D) na njoj se nalazi grad Nantes |
| | E) izvire u Pirenejima |
- 2 27. Kompanijama pridruži državu u kojoj se nalazi njeno sjedište.
- | | |
|-------------|--------------|
| _____ Peko | A) Poljska |
| _____ Pepco | B) Švedska |
| _____ Lidl | C) Danska |
| _____ Jysk | D) Njemačka |
| | E) Slovenija |

U SLJEDEĆA TRI ZADATKA POVEŽI PAROVE UPISIVANJEM SAMO JEDNOG SLOVA NA CRTU ISPRED PONUĐENIH ODGOVORA. TRI CRTE MORAJU OSTATI PRAZNE.

2 28. Poveži imena gradova na slovenskom i hrvatskom jeziku s njihovim njemačkim imenom.

A) Celovec B) Železno

_____ Parndorf _____ Eisenstadt _____ Klagenfurt

_____ Villach _____ Graz

2 29. Poveži gorja s državom u kojoj se nalaze.

A) Niske Ture B) Niska Tatra

_____ Švicarska _____ Slovenija _____ Češka

_____ Slovačka _____ Austrija

2 30. Poveži otoke s državom u kojoj se nalaze.

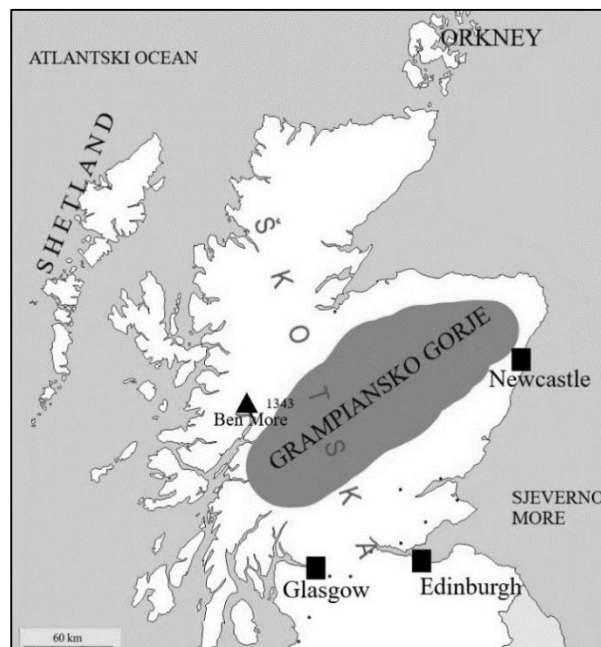
A) Rügen B) Fyn

_____ Danska _____ Švedska _____ Finska

_____ Njemačka _____ Norveška

SLJEDEĆI ZADATAK RIJEŠI UZ POMOĆ PRILOŽENE GEOGRAFSKE KARTE DIJELA UJEDINJENOG KRALJEVSTVA. NA KARTI SU TRI POGREŠNA POJMA. PRONAĐI IH I UPIŠI U PRVI STUPAC TABLICE, A UZ NJIH U DRUGI STUPAC U ISTOM REDU UPIŠI TOČNE POJMOVE.

3 31. Pažljivo prouči kartu dijela Ujedinjenog Kraljevstva i riješi zadatak kao što je napisano u naputku.



POGREŠAN POJAM	TOČAN POJAM

ZADNJA ČETIRI ZADATKA RIJEŠI UZ POMOĆ PODATAKA U TABLICI.

Tablica 1. Gospodarski najrazvijenije države Zapadne, Sjeverne i Srednje Europe prema ukupnom BDP-u 2017. godine

Rang	Država	BDP u _____ USD	Broj stanovnika u _____	BDP po stanovniku u USD
1.		4 171	80,6	51 750
2.	Ujedinjeno Kraljevstvo	2 914	65,6	44 420
3.		2 836	67,2	42 200
4.	Poljska	1 121	38,5	
5.	Nizozemska	916	17,1	55 570
6.	Belgija	529	11,5	46 000
7.	Švedska	521	9,9	52 600
8.	Švicarska	517	8,2	63 050
9.	Austrija	439	8,6	51 050
10.	Norveška	380	5,4	
11.	Češka	368	10,7	34 400
12.	Irska	353	4,8	73 500

www.cia.gov CIA World factbook 2017.

- 2 32. Na crte u zaglavlje 3-ećeg i 4-tvrtog stupca u **tablici 1.** upiši podatke koji objašnjavaju vrijednosti prikazane u tim stupcima.
- 2 33. **Tablica 1.** prikazuje 12 država Zapadne, Sjeverne i Srednje Europe prema vrijednosti BDP-a. Upiši na odgovarajuće mjesto u tablici imena europskih država koje se nalaze na 1. i na 3. mjestu.
- 2 34. Izračunaj i u zadnji stupac upiši podatke koji nedostaju. Zaokruži na cijeli broj.

Prostor za računanje:

- 1 35. Među državama navedenim u tablici najveći BDP po stanovniku ima država čije je ime _____.