

**ŠKOLSKO/OPĆINSKO/GRADSKO NATJECANJE IZ GEOGRAFIJE
2019. GODINE**

Razred ili kategorija natjecanja: **7. razred**

Zaporka

--	--	--	--	--

Broj postignutih bodova ____ / 70

Potpis članova Školskog povjerenstva

1. _____

2. _____

3. _____

Mjesto i nadnevak: _____

Za rješavanje zadataka predviđeno je 60 minuta.

Ispit se rješava kemijskom olovkom s plavom tintom koja se ne briše. Uporaba obične olovke i crvene ili neke druge boje tinte (osim plave) rezultira diskvalifikacijom učenika.

Pri rješavanju ispita treba primijeniti jezičnu normu standardnoga hrvatskoga jezika, posebice treba poštivati pravopisna pravila o pisanju velikoga i maloga početnog slova geografskih imena. Za pisanje geografskih imena u ispitima i praktičnim radovima primjenjuje se Hrvatski pravopis Instituta za hrvatski jezik i jezikoslovje (2013.).

Odgovori učenika moraju biti čitljivo napisani pisanim slovima, jedino u zadacima u kojima je odgovor jedno slovo dopuštena je uporaba čitljivo napisanog velikog tiskanog slova.

Za vrijeme pisanja ispita ne smije se koristiti ništa osim navedenoga pribora za pisanje. Ova odredba podrazumijeva da natjecatelji ne smiju kod sebe (na sebi, ispod, u svojoj odjeći i slično) imati predmete koji na bilo koji način mogu dovesti u sumnju pravilno provođenje natjecanja. Učenici se ne smiju služiti atlasom, zidnom kartom ni računalom. Kartografski i grafički prilozi nužni za rješavanje zadataka sastavni su dio ispita.

Učenicima se dopušta pisanje po marginama i praznim stranicama ispitnog materijala bez oduzimanja bodova i/ili diskvalifikacije.

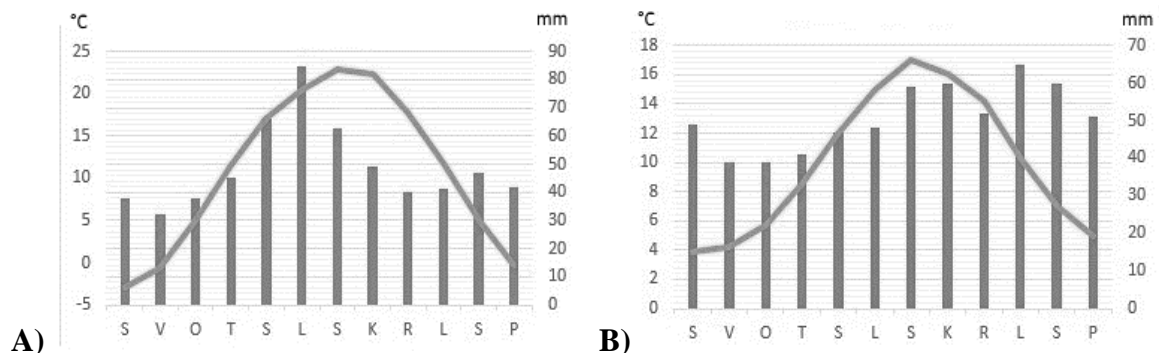
Potpuno ispravno riješeni zadatci, prema uputi za rješavanje vrednuju se s jednim, dva ili tri boda. U djelomično ispravno riješenim zadacima boduju se ispravno riješene čestice, ako nije bilo korekcije odgovora u tim česticama. Netočno riješeni zadatci i naknadno ispravljeni odgovori te odgovori koji su pisani velikim tiskanim slovima ili kombinacijom tiskanih i pisanih slova, kao i odgovori u zagradama ne vrednuju se.

U PRVIH PET ZADATAKA DOPUNI REČENICE.

- 1** 1. Naziv obale kod koje se zaljevi i otoci pružaju okomito na smjer pružanja obale je _____ tip obale.
- 1** 2. Gradska regija koju čine grad i njegova urbanizirana okolica naziva se _____.
- 2** 3. Poslovno središte Londona naziva se _____. Kako bi se ograničilo širenje grada, oko Londona je izgrađen _____ pojas.
- 3** 4. Većina srednjoeuropskih rijeka ima _____ režim, s najvećim vodostajem u _____ i _____ (na crte upiši odgovarajuća godišnja doba).
- 2** 5. Naziv za visoravan koja je oblikovana djelovanjem ledenjaka je _____. Ime poluotoka u Europi na kojem se nalazi najviše ovakvih visoravni je _____ poluotok.

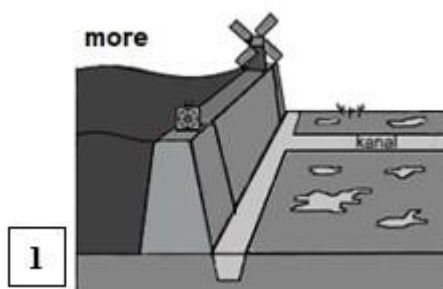
U SLJEDEĆA TRI ZADATKA POVEŽI PAROVE UPISIVANJEM SAMO JEDNOG SLOVA NA CRTU ISPRED PONUĐENIH ODGOVORA. TRI CRTE MORAJU OSTATI PRAZNE.

- 2** 6. Poveži nizine s pripadajućim rijekama.
- A) Aragonska nizina B) Andaluzijska nizina
- _____ Tajo _____ Douro _____ Ebro
- _____ Guadiana _____ Guadalquivir
- 2** 7. Poveži gorja s državama u kojima se nalaze.
- A) Grampiansko gorje B) Harz
- _____ Njemačka _____ Belgija _____ Ujedinjeno Kraljevstvo
- _____ Francuska _____ Luksemburg
- 2** 8. Poveži klimatske dijagrame s gradovima na koje se odnose.



- _____ Bukurešt _____ Rim _____ Moskva
- _____ Oslo _____ London

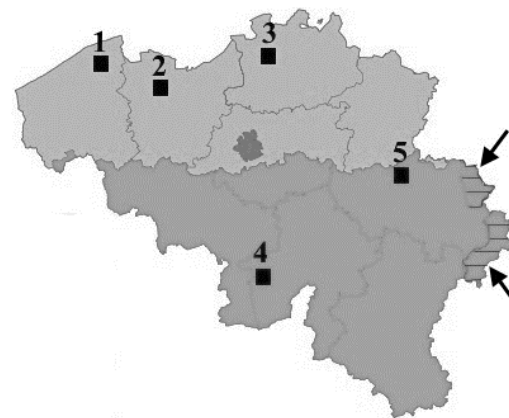
SLJEDEĆA TRI ZADATKA RIJEŠI UZ POMOĆ PRILOŽENIH SLIKA I KARTE DIJELA EUROPE.



- 2** 9. Naziv za kopnenu površinu prikazanu na slici **1** je _____. Ime mora koje se vidi na slici **1** je _____.
- 3** 10. Na priloženoj geografskoj karti upiši broj **1** u kružić koji označava područje u kojem prevladavaju ove kopnene površine. Nijansa boje kojom su ove površine prikazane na preglednoj geografskoj karti je _____ boja.
Ime države u kojoj se nalazi najviše ovakvih površina je _____.
- 2** 11. Slika **2** prikazuje morski zaljev koji je od otvorenog mora odvojen pješčanim sprudom. Naziv za ovakvu vrstu zaljeva je _____. Na priloženoj geografskoj karti upiši broj **2** u kružić koji označava područje u kojem prevladavaju ovi zaljevi.

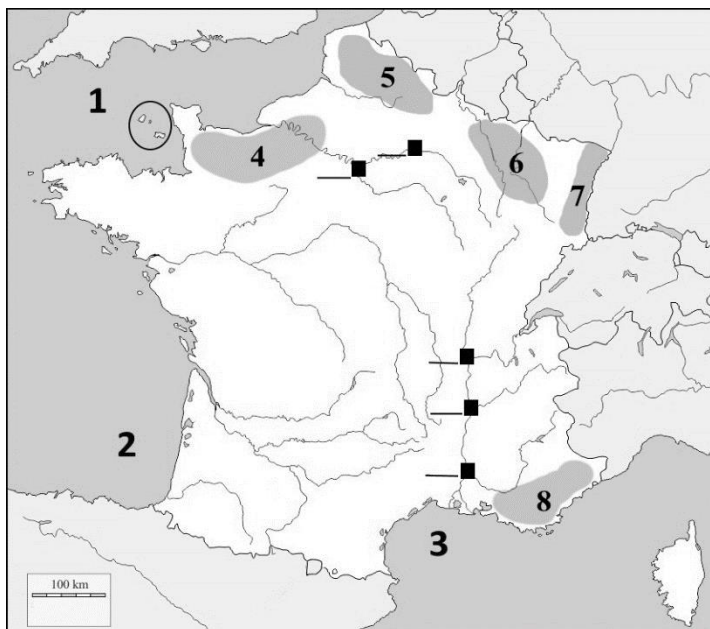
SLJEDEĆA TRI ZADATKA RIJEŠI UZ POMOĆ PRILOŽENE KARTE BELGIJE.

- 2** 12. Osim regije glavnog grada, Belgija je podijeljena još na dvije regije.
Ime sjeverne regije je _____, a ime južne regije je _____.
- 3** 13. Službeni jezik u južnoj regiji je _____ jezik, a naziv skupine jezika kojoj ovaj jezik pripada je _____ skupina.
Službeni jezik koji se govori u području označenom strelicama je _____ jezik.



- 2** 14. Najveća luka u Belgiji je označena brojem _____. Ime ove luke je _____.
Ime grada koji zajedno s glavnim gradom i najvećom lukom čini gospodarski najrazvijeniji dio Belgije je _____, na priloženoj karti je označen brojem _____.

SLJEDEĆIH OSAM ZADATAKA RIJEŠI UZ POMOĆ PRILOŽENE KARTE FRANCUSKE I DIJELOVA SUSJEDNIH DRŽAVA.



3 15. Na karti je brojem **1** označen morski prolaz, a brojevima **2** i **3** morski zaljevi. Na crtu iz broja upiši njihova imena.

1 _____

2 _____

3 _____

1 16. Ime otočne skupine koje je zaokruženo na karti je _____.

2 17. Na karti zaokruži Bodensko jezero.

Prema načinu postanka zavale ovo je _____ jezero.

2 18. Pokrajina Alzas je označena brojem _____. Ime gorja koje se nalazi u ovoj pokrajini je _____.

2 19. Ime pokrajine označene brojem **8** je _____. Ime rijeke prikazane na karti koja jednim dijelom teče kroz pokrajinu označenu brojem **4** je _____.

2 20. Na crtu uz kvadratić kojim je označen smještaj Pariza upiši broj **9**, a na crtu uz kvadratić kojim je označen smještaj Lyona upiši broj **10**.

2 21. Imena rijeka na kojima se nalazi grad Lyon su _____ i _____.

2 22. Na geografskoj karti mjerila 1: 8 000 000, zračna udaljenost između Pariza i Lyona je 5 cm. Njihova zračna udaljenost u stvarnosti iznosi _____. Ovu udaljenost je moguće prijeći za 2 sata vožnje vlakovima velikih brzina, a njihovo ime je _____ (upiši originalnu pokratu).

Prostor za računanje:

U SLJEDEĆEM ZADATKU POVEŽI SREDNJI I DESNI STUPAC S LIJEVIM UPISIVANJEM PRIPADAJUĆEG BROJA I SLOVA ISPRED POJMOVA U LIJEVOM STUPCU. DVA POJMA IZ SREDNJEG I DVA IZ DESNOG STUPCA NE MOGU SE POVEZATI.

3 23. Nazivu tvrtke pridruži granu industrije i državu u kojoj se nalazi njeno središte.

_____ Philips

_____ BP (British Petrol)

_____ L'Oreal

1 – automobilska

2 – naftna

3 – tekstilna

4 – kozmetička

5 – elektrotehnička

A – Belgija

B – Francuska

C – Nizozemska

D – Ujedinjeno Kraljevstvo

E – Irska

**U SLJEDEĆA DVA ZADATKA POVEŽI POJMOVE UPISIVANJEM SAMO
JEDNOG SLOVA NA CRTU ISPRED POJMA U LIJEVOM STUPCU.
JEDAN POJAM IZ DESNOG STUPCA NE MOŽE SE POVEZATI.**

24. Sljevovima pridruži rijeke koje im pripadaju.
- | | |
|-------------------------------|----------|
| _____ slijev Baltičkog mora | A) Po |
| _____ slijev Sredozemnog mora | B) Tejo |
| _____ slijev Sjevernog mora | C) Laba |
| _____ slijev Crnog mora | D) Dunav |
| | E) Odra |

25. Tipovima klime pridruži područje u kojem prevladava.
- | | |
|-----------------------------|----------------------------|
| _____ stepska klima | A) Obala Sjevernog mora |
| _____ sredozemna klima | B) Prikaspijska nizina |
| _____ vlažna snježno šumska | C) Obala Barentsovog mora |
| _____ klima tundre | D) Obala Botničkog zaljeva |
| | E) Južna Francuska |

**U SVAKOM OD SLJEDEĆA ČETIRI ZADATKA DVA SU ODGOVORA TOČNA.
ZAKRUŽI SLOVA ISPRED TOČNIH ODGOVORA.**

26. Koja su od navedenih gorja nastala u paleozoiku?
- a) Ural b) Karpati c) Pindos d) Skandinavsko gorje e) Kavkaz
27. Koja od navedenih jezera imaju zavale ledenjačkog postanka?
- a) Ohridsko b) Bledsko c) Ženevsko d) Rybinsko e) Balaton
28. U kojim od navedenih država je većina stanovnika protestantske vjeroispovijesti?
- a) Švicarska b) Bugarska c) Nizozemska d) Švedska e) Mađarska
29. Koji od navedenih jezika ne pripadaju niti jednoj skupini indoeuropskih jezika?
- a) albanski b) grčki c) malteški d) katalonski e) baskijski

SLJEDEĆIH PET ZADATAKA

**RIJEŠI UZ POMOĆ
PRILOŽENE KARTE
DRŽAVA EUROPE I
TABLICE.**



	površina (km²)	broj stanovnika (u tisućama) 2017.	gustoća naseljenosti (stan./km²)	stopa rodnosti (‰)	stopa smrtnosti (‰)	Prostor za računanje:
Bjelorusija	207 595	9 550		10,3	13,2	
Belgija	32 545	11 491	353,1	11,3	12,9	
Danska	43 098	5 605	130,1	10,5	10,3	
Hrvatska	56 594	4 284	75,7	8,9	12,2	
Njemačka	357 121	80 594	225,7	8,6	11,7	
Irska	70 273	5 011	71,3	14,1	6,6	
Nizozemska	41 526	17 085	411,1	10,9	8,9	
Švedska	449 964		22,1	12,1	9,4	

Izvor: The World Factbook, CIA, 2017.

- 2** 30. Izračunaj i upiši u tablicu podatke koji nedostaju.
- 1** 31. Ime monarhije koja ima najviše stanovnika je _____. Na priloženoj karti ovu državu označi brojem **1**.
- 1** 32. Ime države koja ima najmanju stopu rodnosti je _____. Na priloženoj karti označi ovu državu brojem **2**.
- 1** 33. Ime države iz regije Sjeverna Europa s najvećom stopom rodnosti je _____. Na priloženoj karti upiši broj **3** u ovu državu.
- 2** 34. Ime države koja ima najveću stopu prirodne promjene je _____. Na priloženoj karti upiši broj **4** u ovu državu. Stopa prirodne promjene ove države iznosi _____.

Prostor za računanje:

**U TEKSTU KOJI GOVORI O KLIMI EUROPE TRI SU POGREŠNA POJMA.
PRONAĐI IH U TEKSTU I PREPIŠI U PRVI STUPAC TABLICE,
A UZ NJIH U DRUGI STUPAC, U ISTOM REDU, UPIŠI TOČNE POJMOVE.**

- 3** 35. Geografski položaj je jedan od najvažnijih klimatskih čimbenika. Najveći dio Europe se nalazi u sjevernom umjerenom pojasu i stoga prevladavaju umjerene klime koje se prema Köppenovoj klasifikaciji označavaju slovom C. Prema srednjim temperaturama najtoplijeg mjeseca razlikujemo tri tipa umjereno tople vlažne klime. Najveći dio zapadne Europe ima umjereno toplu vlažnu klimu sa svježim ljetom. Zbog utjecaja kontinentalnosti, u područjima s ovom klimom godišnja amplituda temperature smanjuje se od obala Atlantskog oceana prema unutrašnjosti.

POGREŠAN POJAM	TOČAN POJAM