

# ŠKOLSKO/OPĆINSKO/GRADSKO NATJECANJE IZ GEOGRAFIJE 2019. GODINE

Razred ili kategorija natjecanja: **6. razred**

Zaporka: 

--	--	--	--	--

 \_\_\_\_\_

Broj postignutih bodova \_\_\_\_ / 70

Potpis članova Školskog povjerenstva

1. \_\_\_\_\_
2. \_\_\_\_\_
3. \_\_\_\_\_

Mjesto i nadnevak: \_\_\_\_\_, **11. veljače 2019. godine**

Za rješavanje zadataka predviđeno je 60 minuta.

Ispit se rješava kemijskom olovkom s plavom tintom koja se ne briše. Uporaba obične olovke i crvene ili neke druge boje tinte (osim plave) rezultira diskvalifikacijom učenika.

Pri rješavanju ispita treba primijeniti jezičnu normu standardnoga hrvatskoga jezika, posebice treba poštivati pravopisna pravila o pisanju velikoga i maloga početnog slova geografskih imena. Za pisanje geografskih imena u ispitima i praktičnim radovima primjenjuje se Hrvatski pravopis Instituta za hrvatski jezik i jezikoslovlje (2013.).

Odgovori učenika moraju biti čitljivo napisani pisanim slovima, jedino u zadacima u kojima je odgovor jedno slovo dopuštena je uporaba čitljivo napisanog velikog tiskanog slova.

Za vrijeme pisanja ispita ne smije se koristiti ništa osim navedenoga pribora za pisanje. Ova odredba podrazumijeva da natjecatelji ne smiju kod sebe (na sebi, ispod, u svojoj odjeći i slično) imati predmete koji na bilo koji način mogu dovesti u sumnju pravilno provođenje natjecanja. Učenici se ne smiju služiti atlasom, zidnom kartom ni računalom. Kartografski i grafički prilozi nužni za rješavanje zadataka sastavni su dio ispita.

Učenicima se dopušta pisanje po marginama i praznim stranicama ispitnog materijala bez oduzimanja bodova i/ili diskvalifikacije.

Potpuno ispravno riješeni zadatci, prema uputi za rješavanje vrednuju se s jednim, dva ili tri boda. U djelomično ispravno riješenim zadacima boduju se ispravno riješene čestice, ako nije bilo korekcije odgovora u tim česticama. Netočno riješeni zadatci i naknadno ispravljeni odgovori te odgovori koji su pisani velikim tiskanim slovima ili kombinacijom tiskanih i pisanih slova, kao i odgovori u zagradama ne vrednuju se.

**U PRVIH ŠEST ZADATAKA DVA SU TOČNA ODGOVORA.  
ZAKRUŽI SLOVA ISPRED TOČNIH ODGOVORA.**

- 2**  1. Koje su od navedenih azijskih država od 2015. do 2018. godine imale visok bruto nacionalni dohodak po stanovniku?  
a) Filipini      b) Japan      c) Jemen      d) Katar      e) Nepal
- 2**  2. Koje od navedenih azijskih rijeka teku Zapadnosibirskom nizinom?  
a) Amur      b) Jenisej      c) Lena      d) Ob      e) Sir Darja
- 2**  3. Koje od navedenih azijskih uzvisina pripadaju u skupinu starog gromadnog gorja?  
a) Altaj      b) Kunlun      c) Pamir      d) Sajan      e) Toros
- 2**  4. Koji su od navedenih kineskih milijunskih gradova smješteni na rijeci Chang Jiang (Jang Ce)?  
a) Beijing (Peking)      b) Chongqing      c) Harbin      d) Wuhan      e) Xianggang (Hong Kong)
- 2**  5. Koje su od navedenih tvrdnji o Indiji točne?  
a) Najgušće naseljena prirodna cjelina Indije je Dekan.  
b) Mt. Everest, najviši vrh svijeta, smješten je na granici Indije i Kine.  
c) U Indiji više stanovnika živi na selu nego u gradovima.  
d) Najvažniji izvozni proizvodi Indije su tekstil, odjeća, drago kamenje, nakit, poljoprivredni i kemijski proizvodi, željezo i čelik.  
e) Najzastupljeniji tip klime u Indiji je prašumska klima.
- 2**  6. Koje su od navedenih tvrdnji o Japanu točne?  
a) Zimski monsun ne donosi padaline Japanu.  
b) U današnjoj dobnoj strukturi Japana staro stanovništvo je brojnije od mladog stanovništva.  
c) Najviši vrh Japana nalazi se na otoku Shikoku.  
d) Japan je veliki svjetski proizvođač nafte i jedna od vodećih zemalja u organizaciji OPEC.  
e) Najmnogoljudniji grad na otoku Hokkaido je Sapporo.

**U SVAKOM OD SLJEDEĆA DVA ZADATKA JEDAN JE TOČAN ODGOVOR.  
ZAKRUŽI SLOVO ISPRED TOČNOG ODGOVORA.**

- 1**  7. Koji od navedenih velikih azijskih otoka siječe sjeverna obratnica?  
a) Kyushu      b) Luzon      c) Sahalin      d) Taiwan
- 1**  8. Na kojoj je od priloženih fotografija prikazana tajga?



**U SLJEDEĆIH ŠEST ZADATAKA POVEŽI PAROVE UPISIVANJEM SLOVA NA CRTU ISPRED  
PONUĐENIH ODGOVORA. TRI CRTE MORAJU OSTATI PRAZNE.**

- 2**  **9.** Navedene opise poveži s pripadajućim podacima o prirodnoj promjeni stanovništva odabranih azijskih država.

**A) najveća stopa rodnosti**

**B) najveći prirodni porast**

\_\_\_ Bangladeš (r = 20 ‰; s = 5,7 ‰)

\_\_\_ Indonezija (r = 18,8 ‰; s = 5,7 ‰)

\_\_\_ Kazahstan (r = 20,5 ‰; s = 9,7 ‰)

\_\_\_ Šri Lanka (r = 17,9 ‰; s = 6,6 ‰)

\_\_\_ Turkmenistan (r = 21,3 ‰; s = 8,8 ‰)

*prostor za računanje*

- 2**  **10.** Prikazane fotografije zanimanja poveži sa sektorom djelatnosti kojem pripadaju navedena zanimanja.

**A)**



**B)**



\_\_\_ primarni    \_\_\_ sekundarni    \_\_\_ tercijarni    \_\_\_ kvartarni    \_\_\_ kvintalni

- 2**  **11.** Navedene kulturno-povijesne spomenike koji se nalaze na UNESCO-ovom popisu svjetske baštine poveži s imenima gradova u kojima se nalaze.

**A) Dioklecijanova palača**

**B) katedrala sv. Jakova**

\_\_\_ Dubrovnik

\_\_\_ Poreč

\_\_\_ Split

\_\_\_ Šibenik

\_\_\_ Trogir

- 2**  **12.** Navedene opise poveži s imenima mora.

**A) more smješteno između Azije i Sjeverne Amerike**

**B) more smješteno između Azije i Australije**

\_\_\_ Karsko

\_\_\_ Timorsko

\_\_\_ Beringovo

\_\_\_ Ohotsko

\_\_\_ Laptevsko

- 2**  **13.** Navedena jezera poveži s imenima država u kojima su smještena.

**A) jezero Lop**

**B) Balqaško jezero**

\_\_\_ Mongolija

\_\_\_ Indija

\_\_\_ Kina

\_\_\_ Rusija

\_\_\_ Kazahstan

- 2**  **14.** Navedene opise gradova poveži s njihovim imenima.

**A) višemilijunski grad smješten na ušću rijeke Ind**

**B) višemilijunski grad smješten na ušću rijeke Ganges**

\_\_\_ Haidarabad

\_\_\_ Karachi

\_\_\_ Kolkata

\_\_\_ Mumbai

\_\_\_ Lahore

**SLJEDEĆA TRI ZADATKA RIJEŠI UZ POMOĆ PRILOŽENE KARTE DIJELA SVIJETA.**



**3**  **15.** Na crte iza brojeva upiši naziv službenog jezika u državi koja je tim brojem označena na priloženoj karti.

1 \_\_\_\_\_

2 \_\_\_\_\_

3 \_\_\_\_\_

**2**  **16.** Pokratak međunarodne organizacije čije je cjelokupno članstvo 2018. godine prikazano zatamnjeno na priloženoj karti je \_\_\_\_\_, a ime jedine euroazijske države članice te međunarodne organizacije je \_\_\_\_\_.

**2**  **17.** Sve zatamnjene države na priloženoj karti su i članice najvažnije i najveće međunarodne organizacije osnovane 1945. godine sa svrhom očuvanja mira i sigurnosti u svijetu. Pokratak te međunarodne organizacije je \_\_\_\_\_, a ime grada u kojem se nalazi glavno sjedište te međunarodne organizacije je \_\_\_\_\_.

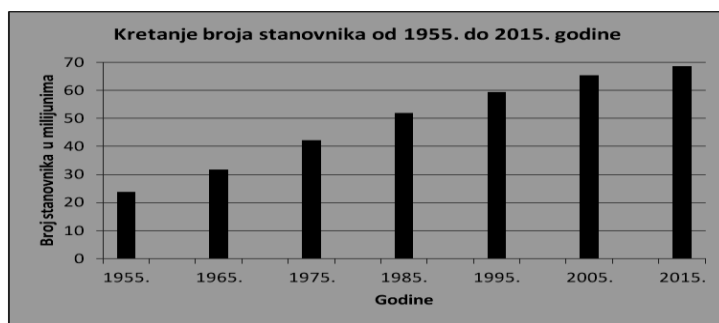
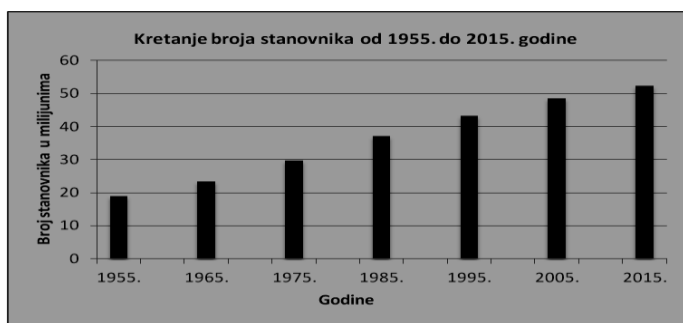
**SLJEDEĆIH SEDAM ZADATAKA RIJEŠI UZ POMOĆ PRILOŽENE TABLICE.**

Tab. 1. Površina i broj stanovnika pojedinih azijskih država u razdoblju od 1955. do 2015. godine

Države	Glavni grad	Površina države (km <sup>2</sup> )	Broj stanovnika u pojedinim godinama						
			1955.	1965.	1975.	1985.	1995.	2005.	2015.
Kambodža		181 035	5 045 288	6 467 197	7 522 593	7 712 978	10 653 558	13 270 201	15 517 635
Laos		236 800	1 890 852	2 382 594	3 051 577	3 687 898	4 851 923	5 754 026	6 663 967
Malezija		330 803	7 039 719	9 526 563	12 162 369	15 598 942	20 495 597	25 659 393	30 723 155
Mjanmar		676 578	18 867 968	23 391 145	29 721 967	37 222 296	43 237 792	48 482 614	52 403 669
Tajland		513 120	23 711 046	31 822 796	42 334 954	52 041 469	59 491 790	65 425 490	68 657 600
Vijetnam		331 212	28 147 786	37 860 012	48 729 392	61 049 373	75 198 977	84 308 843	93 571 567

Izvor: <http://worldpopulationreview.com>

- 2** **18.** Usporedi podatke u Tablici 1. i priložene stupčaste dijagrame koji prikazuju kretanje broja stanovnika dviju država navedenih u tablici. Na crte ispod dijagrama upiši imena država čije kretanje broja stanovnika prikazuju stupčasti dijagrami.



- 2** **19.** Ime najgušće naseljene države među navedenima u tablici je \_\_\_\_\_, a ime najrjeđe naseljene države među navedenima u tablici je \_\_\_\_\_.

*prostor za računanje*

- 1** **20.** Ime države među navedenima u tablici koja bilježi najveći relativni porast broja stanovnika u razdoblju od 1955. do 2015. godine je \_\_\_\_\_.

- 3** **21.** Ime regije Azije kojoj pripadaju sve države navedene u tablici je \_\_\_\_\_ Azija. Naziv religije koja je najzastupljenija u pet od šest država navedenih u tablici je \_\_\_\_\_, a ime jedine države iz tablice u kojoj je islam najzastupljenija religija je \_\_\_\_\_.

- 3** **22.** Pridruži glavni grad njegovoj državi upisivanjem pripadajućeg slova ispred njegovog imena u stupac tablice „Glavni grad“. Tri polja moraju ostati neupisana.

**A** Krung Thep (Bangkok)    **B** Phnom Penh    **C** Kuala Lumpur

- 3** **23.** Imena država navedenih u tablici koje imaju kopnenu granicu s Kinom su \_\_\_\_\_, \_\_\_\_\_ i \_\_\_\_\_.

2

24. Na crte ispod priloženih fotografija upiši imena država iz tablice na čijem se teritoriju nalaze građevine na priloženim fotografijama.



**U SLJEDEĆA DVA ZADATKA PAŽLJIVO PROČITAJ TEKST I DOPUNI REČENICE.**

3

25. Pažljivo pročitaj tekst o Damavandu i dopuni rečenice.

*Damavand je najviši vrh uzvisine smještene uz južnu obalu površinom najvećeg jezera na svijetu i 66 kilometara sjeveroistočno od glavnog grada države u kojoj se nalazi. Prvi zabilježeni uspon na taj ugasli vulkan, čija nadmorska visina iznosi 5670 metara, izvršio je perzijski geograf Abu Dolaf Kazraji 905. godine. Damavand je azijski predstavnik u planinarskom izazovu „Sedam vulkanskih vrhova“ koji okuplja najviše vulkanske vrhove svakog pojedinog kontinenta. Za uspon na Damavand danas postoji 16 različitih smjerova, od kojih je najpopularnija južna ruta čija je polazna točka Bargah Sevom kamp na nadmorskoj visini od 4220 metara.*

Ime uzvisine kojoj je Damavand najviši vrh je

\_\_\_\_\_ , a prema starosti

nastanka tu uzvisinu ubrajamo u \_\_\_\_\_ gorje.

Relativna visina između Damavanda i Bargah Sevom kampa iznosi \_\_\_\_\_ metara.

prostor za računanje

3

26. Pažljivo pročitaj tekst o prirodnom rezervatu Wolong i dopuni rečenice.

*Prirodni rezervat Wolong smješten je 130 kilometara jugozapadno od grada Chengdu u provinciji Sečuan u podnožju visoravni Tibet gdje su zime hladne i suhe, a ljeta topla i kišovita. Zajedno s još 6 rezervata prirode i 9 parkova prirode ukupne površine 9425 kvadratnih kilometara uvršten je na UNESCO-ov popis mjesta svjetske baštine u Aziji. Prirodni rezervat Wolong se bavi zaštitom ugroženih životinjskih vrsta poput snježnog i oblačastog leoparda, ali je ipak najpoznatiji po zaštiti jedne životinjske vrste koja se ponajviše hrani bambusom i čiji se lik nalazi u logou međunarodne organizacije WWF (World Wildlife Fund). 28. svibnja 2008. godine potres magnitude 8 po Richterovoj skali pogodio je provinciju Sečuan. Epicentar potresa je bio udaljen 12 kilometara od središta Wolong prirodnog rezervata.*

Naziv opisane i neimenovane životinjske vrste u tekstu koju štiti Wolong prirodni rezervat je

\_\_\_\_\_.

Naziv tipa klime koji je zastupljen u Wolong prirodnom rezervatu je \_\_\_\_\_ klima.

Naziv uređaja za mjerenje jačine potresa je \_\_\_\_\_.

**U SLJEDEĆEM ZADATKU PROMOTRI PRILOŽENU FOTOGRAFIJU I DOPUNI REČENICU.**

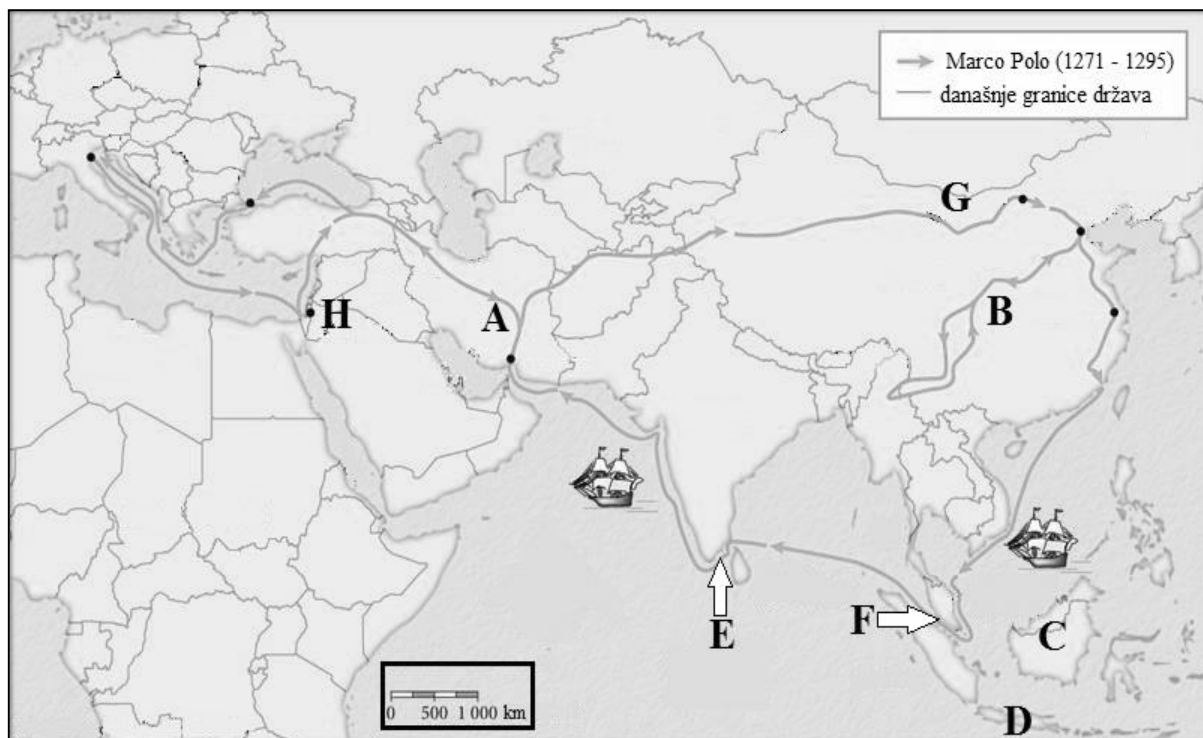
1

27. Na slici je najdulji prekomorski most na svijetu duljine 55 km, a otvoren je 24. listopada 2018. godine. Ime je dobio prema imenima gradova i administrativnih regija koje povezuje.

Ime mosta je \_\_\_\_\_ - Zhuhai - Macao most.



**SLJEDEĆIH  
OSAM  
ZADATAKA  
RIJEŠI UZ  
POMOĆ  
PRILOŽENE  
KARTE  
DIJELA  
SVIJETA.**



- 1**  28. Skupinu geografskih karata prema sadržaju kojoj pripada priložena karta nazivamo \_\_\_\_\_ karte.
- 1**  29. Stoljeće u kojem je Marco Polo izvršio svoje putovanje po Aziji je \_\_\_\_\_ stoljeće.
- 2**  30. Ime mora u kojem se nalazi zapadnije smješten jedrenjak na karti je \_\_\_\_\_ more, a ime mora u kojem se nalazi istočnije smješten jedrenjak na karti je \_\_\_\_\_ more.
- 2**  31. Ime današnje države označene slovom A je \_\_\_\_\_, a ime regije Azije kojoj pripada država označena slovom A je \_\_\_\_\_ Azija.
- 2**  32. Ime današnje države označene slovom B je \_\_\_\_\_, a ime regije Azije kojoj pripada država označena slovom B je \_\_\_\_\_ Azija.
- 2**  33. Na crte iza slova upiši imena otoka označenih na priloženoj karti slovima C i D.  
C \_\_\_\_\_ D \_\_\_\_\_
- 2**  34. Na crte iza slova upiši imena morskih prolaza označenih na priloženoj karti slovima E i F i strelicama.  
E \_\_\_\_\_ F \_\_\_\_\_
- 2**  35. Ime pustinje označene slovom G kojom je Marco Polo prošao na svom putovanju je \_\_\_\_\_, a ime svetog grada za kršćane, muslimane i židove označenog slovom H je \_\_\_\_\_.